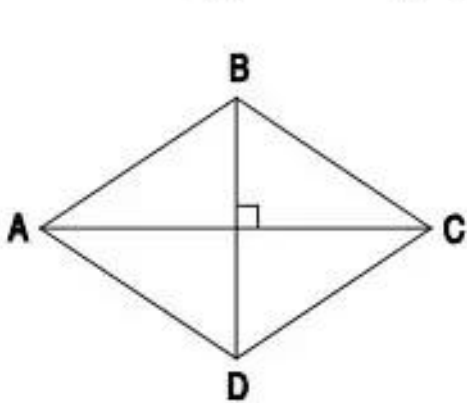


Bài 134.

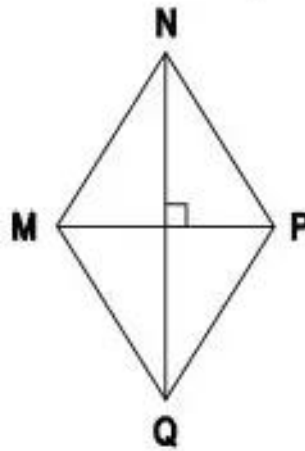
DIỆN TÍCH HÌNH THOI

1. Đánh dấu (×) vào ô trống đặt dưới hình thoi có diện tích bé hơn 20cm^2 :



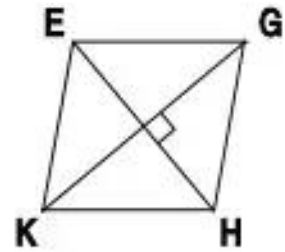
$AC = 9\text{cm}$

$BD = 6\text{cm}$



$MP = 5\text{cm}$

$NQ = 8\text{cm}$



$KG = 6\text{cm}$

$EH = 5\text{cm}$



2. Viết vào ô trống :

Hình thoi	(1)	(2)	(3)
Đường chéo	12cm	16dm	20m
Đường chéo	7cm	27dm	5m
Diện tích			

3. Một mảnh bìa hình thoi có độ dài các đường chéo là 10cm và 24cm. Tính diện tích của mảnh bìa đó.

Bài giải

.....

.....

.....