

**Bài 135.****LUYỆN TẬP**

1. Viết số thích hợp vào chỗ chấm :

Hình thoi		
Đường chéo	Đường chéo	Diện tích
14dm	7dm	.....dm <sup>2</sup>
6dm	30cm	.....dm <sup>2</sup>
24dm	5m	.....dm <sup>2</sup>

2. Một hình thoi có diện tích  $360\text{cm}^2$ , độ dài một đường chéo là 24cm. Tính độ dài đường chéo thứ hai.


*Bài giải*

.....

.....

.....

3.



Diện tích hình thoi bằng một nửa diện tích hình chữ nhật. Tính chu vi hình chữ nhật.

*Bài giải*

.....

.....

.....

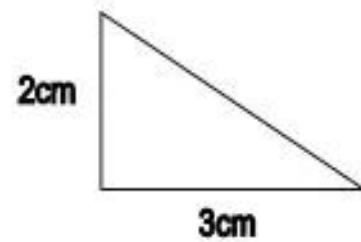
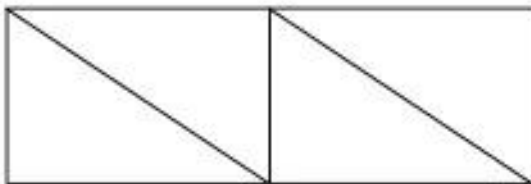
.....

.....

.....

.....

4. Người ta xếp bốn hình tam giác, mỗi hình như hình bên thành hình chữ nhật sau :



Tính diện tích hình chữ nhật.

*Bài giải*

.....

.....

.....

.....

.....