


Bài 138. TÌM HAI SỐ KHI BIẾT TỔNG VÀ TỈ SỐ CỦA HAI SỐ ĐÓ

1. Viết số hoặc tỉ số vào chỗ chấm :

a)



Tổng của hai số bằng


Số bé được biểu thị là phần bằng nhau.

Số lớn được biểu thị là phần như thế.

Tỉ số của số bé và số lớn là

Tổng số phần bằng nhau là phần.

b)



Tổng của hai số bằng

Số lớn được biểu thị là phần bằng nhau.

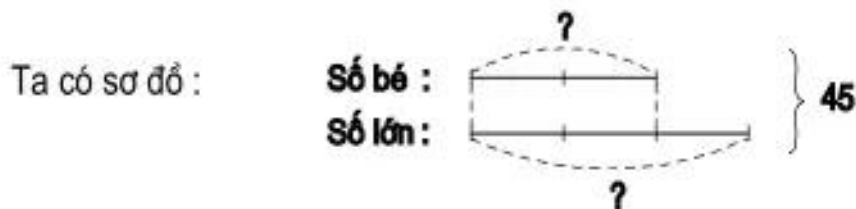
Số bé được biểu thị là phần như thế.

Tỉ số của số lớn và số bé là

Tổng số phần bằng nhau là phần.

2. Tổng của hai số là 45. Tỉ số của hai số đó là $\frac{2}{3}$. Tìm hai số đó.

Bài giải



3. Một cửa hàng đã bán 49kg gạo, trong đó số gạo nếp bằng $\frac{2}{5}$ số gạo tẻ.

Hỏi cửa hàng đó đã bán bao nhiêu ki-lô-gam gạo mỗi loại ?

Bài giải