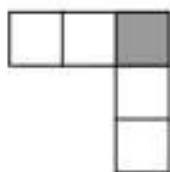

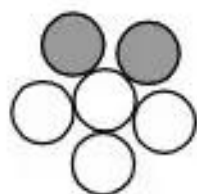


Bài 159.**ÔN TẬP VỀ PHÂN SỐ**

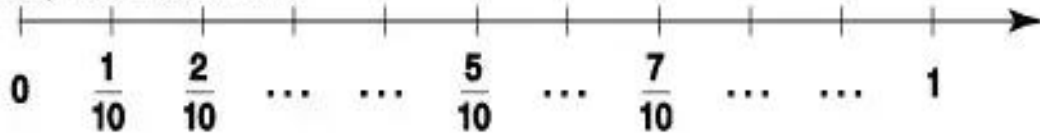
1. Nối phân số $\frac{2}{5}$ với hình biểu thị phân số đó :



$$\frac{2}{5}$$



2. Viết tiếp vào chỗ chấm :



3. Rút gọn phân số :

$$\frac{15}{18} = \dots = \dots; \quad \frac{14}{40} = \dots = \dots; \quad \frac{18}{24} = \dots = \dots$$

$$\frac{25}{35} = \dots = \dots; \quad \frac{60}{12} = \dots = \dots; \quad \frac{100}{1000} = \dots = \dots$$

4. Quy đồng mẫu số các phân số :

a) $\frac{3}{5}$ và $\frac{4}{7}$

$$\frac{3}{5} = \dots = \dots$$

$$\frac{4}{7} = \dots = \dots$$

b) $\frac{1}{4}$; $\frac{1}{5}$ và $\frac{1}{2}$

$$\frac{1}{4} = \dots$$

$$\frac{1}{5} = \dots$$

$$\frac{1}{2} = \dots$$

5. Sắp xếp các phân số $\frac{1}{3}$; $\frac{1}{6}$; $\frac{5}{2}$; $\frac{3}{2}$ theo thứ tự từ bé đến lớn :

.....