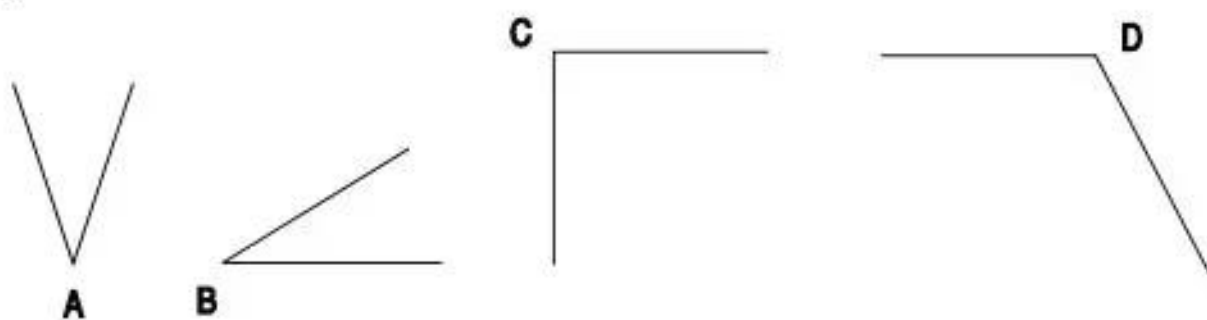


Bài 167.

ÔN TẬP VỀ HÌNH HỌC

1.


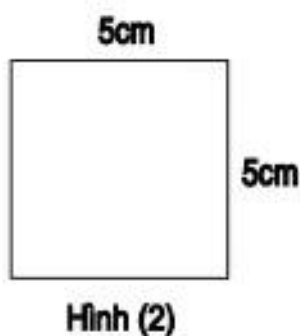
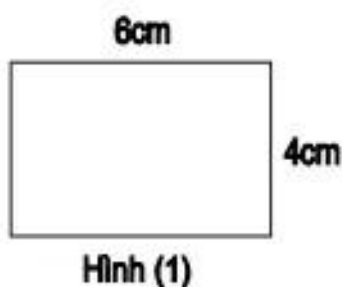


Góc vuông có đỉnh là

Góc nhọn có đỉnh là

Góc tù có đỉnh là

2.



a) Viết vào ô trống :

Hình	Chu vi	Diện tích
(1)		
(2)		
(3)		

b) Các hình có cùng chu vi là

Các hình có cùng diện tích là

3. a) Hãy vẽ một hình chữ nhật có chiều rộng 3cm và chiều dài 5cm.

b) Hãy kẻ thêm một đoạn thẳng để chia hình chữ nhật nói trên thành một hình vuông và một hình chữ nhật.

4. Một sân vận động hình chữ nhật có chiều dài 180m và chiều rộng 70m. Tính chu vi sân vận động đó.

Bài giải

.....

.....

.....