

Bài 175.**TỰ KIỂM TRA**

Phần 1. Khoanh vào chữ đặt trước câu trả lời đúng.

1. Giá trị của chữ số 8 trong số 985 672 là :


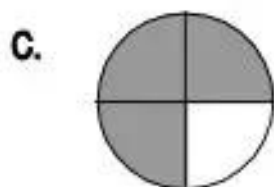
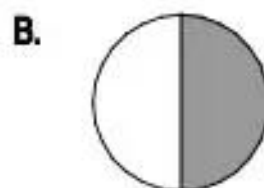
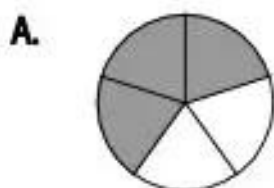
A. 8

B. 800

C. 8000

D. 80 000

2. Đã tô đậm $\frac{3}{5}$ hình tròn nào ?



3. Cho phép cộng : $\frac{4}{5} + \frac{4}{5}$. Cách tính nào đúng ?

A. $\frac{4}{5} + \frac{4}{5} = \frac{4+4}{5+5}$

B. $\frac{4}{5} + \frac{4}{5} = \frac{4}{5+5}$

C. $\frac{4}{5} + \frac{4}{5} = \frac{4+4}{5}$

D. $\frac{4}{5} + \frac{4}{5} = \frac{4 \times 5 + 4 \times 5}{5}$

4. Phân số $\frac{5}{6}$ bằng phân số nào dưới đây ?

A. $\frac{20}{18}$

B. $\frac{20}{24}$

C. $\frac{24}{20}$

D. $\frac{18}{20}$

5. Nền một phòng học hình chữ nhật có chiều rộng khoảng :

A. 5dm

B. 50m

C. 5mm

D. 5m

Phần 2. Tính :

1. $\frac{9}{16} - \frac{3}{8} = \dots\dots\dots$

2. $\frac{5}{9} \times \frac{3}{8} = \dots\dots\dots$

3. $\frac{5}{6} + \frac{9}{12} : \frac{18}{5} = \dots\dots\dots$

4. $\frac{1}{2} : \frac{1}{2} : \frac{1}{2} = \dots\dots\dots$

Phần 3. Giải bài toán :

Một mảnh đất hình chữ nhật có nửa chu vi là 64m, chiều rộng bằng $\frac{3}{5}$ chiều dài.

Tính diện tích của mảnh đất đó.

Bài giải

.....

.....

.....

.....

.....

.....

.....

.....

.....

.....

.....

.....

.....

.....

.....

.....