
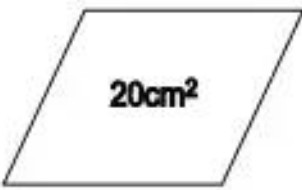



Bài 95.**LUYỆN TẬP**

1. Khoanh vào chữ đặt trước câu trả lời đúng.

Hình có diện tích lớn nhất là :

A. Hình (1)   

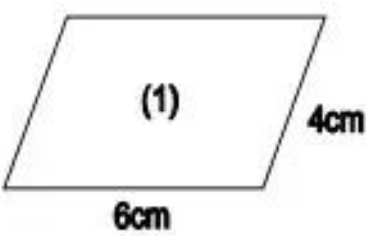
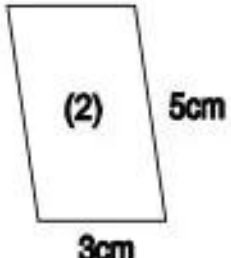
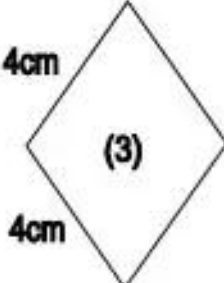
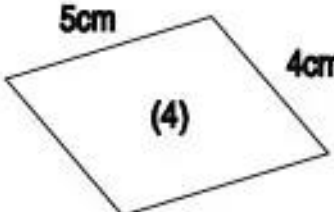
B. Hình (2)

C. Hình (3)

Hình (1) Hình (2) Hình (3)

2. Viết vào ô trống (theo mẫu) :

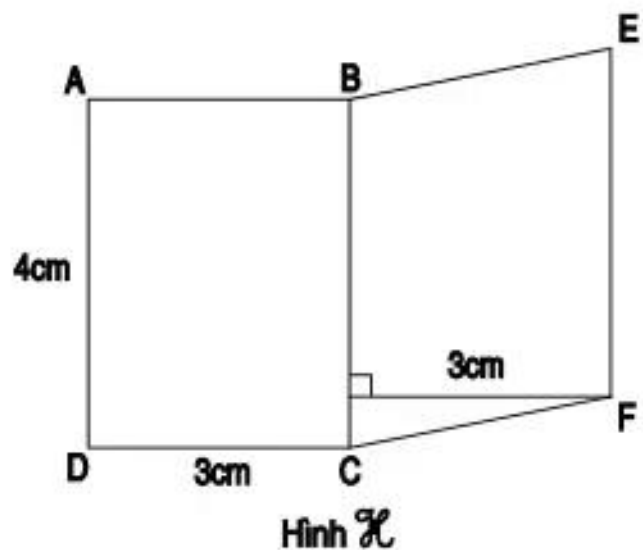
Hình bình hành	Chu vi
(1)	20cm
(2)	
(3)	
(4)	

3. Viết vào ô trống (theo mẫu) :

Hình bình hành	(1)	(2)	(3)
Cạnh đáy	4cm	14cm	
Chiều cao	34cm		24cm
Diện tích	136cm^2	182cm^2	360cm^2

4. Cho hình H tạo bởi hình chữ nhật ABCD và hình bình hành BEFC như hình vẽ bên. Tính diện tích hình H.



Bài giải

.....

.....

.....

.....

.....

.....

.....

.....