

Bài 98. PHÂN SỐ VÀ PHÉP CHIA SỐ TỰ NHIÊN (tiếp theo)

1. Chia đều 9l nước mắm vào 12 chai. Hỏi mỗi chai có bao nhiêu lít nước mắm ?

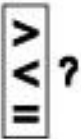
Bài giải

.....
.....
.....

2. May 5 áo trẻ em hết 6m vải. Hỏi may mỗi áo trẻ em hết bao nhiêu mét vải ?

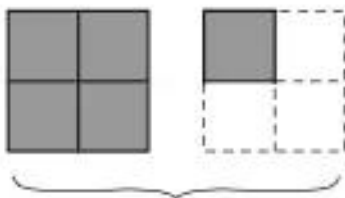
Bài giải

.....
.....
.....

3.  $\frac{4}{5} \dots 1$ $\frac{6}{6} \dots 1$ $\frac{11}{9} \dots 1$
 $\frac{8}{7} \dots 1$ $\frac{21}{22} \dots 1$ $\frac{9}{11} \dots 1$


4. Viết phân số thích hợp vào chỗ chấm :

a)



Đã tô đậm hình vuông

b)



Đã tô đậm hình vuông