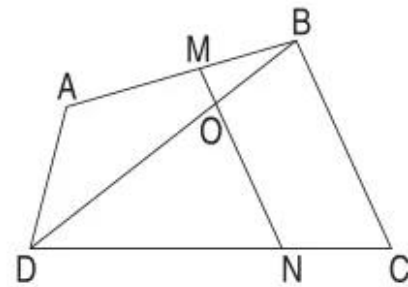


Bài 93 — ĐIỂM Ở GIỮA. TRUNG ĐIỂM CỦA ĐOẠN THẲNG —

1. Viết tên các điểm vào chỗ chấm :

a) Trong hình bên có :

- Ba điểm . . . , . . . , . . . thẳng hàng.
- Ba điểm . . . , . . . , . . . thẳng hàng.
- Ba điểm . . . , . . . , . . . thẳng hàng.
- Ba điểm . . . , . . . , . . . thẳng hàng.



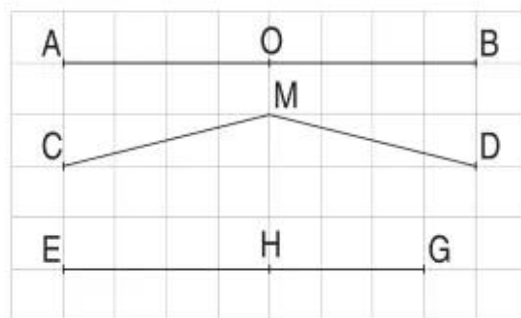
b) – M là điểm ở giữa hai điểm . . . và . . .

– O là điểm ở giữa hai điểm . . . và . . . (hoặc ở giữa hai điểm . . . và . . .)

– N là điểm ở giữa hai điểm . . . và . . .

2. Đúng ghi Đ, sai ghi S :

- M là trung điểm của đoạn thẳng CD.
- O là trung điểm của đoạn thẳng AB.
- H là trung điểm của đoạn thẳng EG.
- O là điểm ở giữa hai điểm A và B.
- H là điểm ở giữa hai điểm E và G.
- M là điểm ở giữa hai điểm C và D.



3. Viết tiếp chữ thích hợp vào chỗ chấm :

a) – Trung điểm đoạn thẳng AB là điểm . . .

– M là . . . của đoạn thẳng CD.

– N là . . . của đoạn thẳng EG.

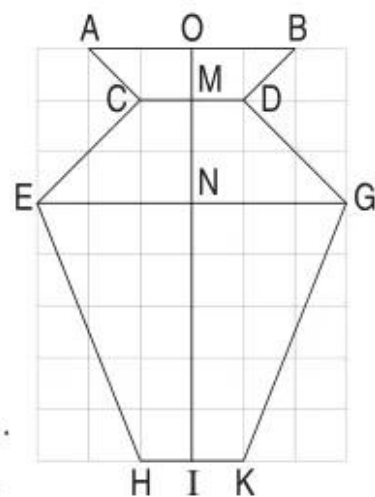
– I là trung điểm của đoạn thẳng . . .

b) Trong các đoạn thẳng AB, CD, EG và HK :

– Đoạn thẳng có độ dài lớn nhất là . . .

– Hai đoạn thẳng có độ dài bằng nhau là . . .

.....



4. Xem hình vẽ ở bài 3 rồi vẽ tiếp một nửa hình còn lại :

