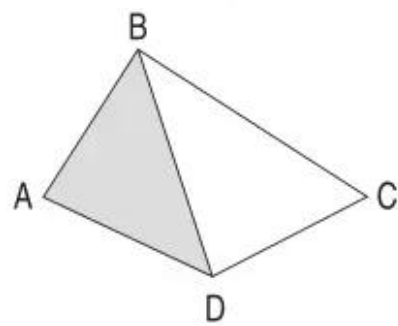


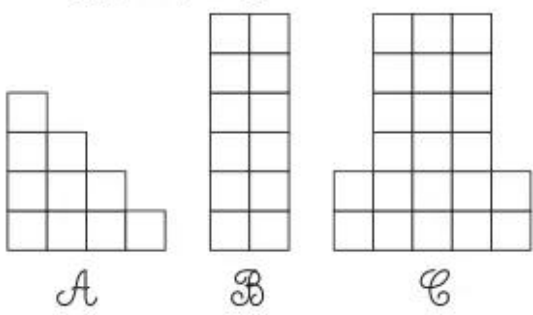
Bài 135 _____ DIỆN TÍCH CỦA MỘT HÌNH _____

1. Điền các từ "lớn hơn", "bé hơn", "bằng" thích hợp vào chỗ chấm :

- Diện tích hình tam giác ABD
diện tích hình tứ giác ABCD.
- Diện tích hình tứ giác ABCD
diện tích hình tam giác BCD.
- Diện tích hình tứ giác ABCD
tổng diện tích hình tam giác ABD và diện
tích hình tam giác BCD.

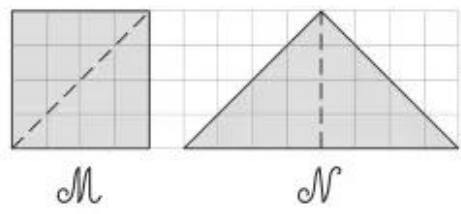


2. Đúng ghi Đ, sai ghi S :



- Diện tích hình C bé hơn diện tích hình B.
- Tổng diện tích hình A và hình B bằng diện tích hình C.
- Diện tích hình A bé hơn diện tích hình B.

3. Khoanh vào chữ đặt trước câu trả lời đúng :



- A. Diện tích hình M bằng diện tích hình N.
- B. Diện tích hình M bé hơn diện tích hình N.
- C. Diện tích hình M lớn hơn diện tích hình N.

4. Vẽ thêm một đoạn thẳng vào hình bên để được hai hình chữ nhật có diện tích bằng nhau.

