

Bài 124 _____ LÀM QUEN VỚI THỐNG KÊ SỐ LIỆU _____

1. Người ta lần lượt cân bốn con vật nuôi trong gia đình : gà, vịt, ngỗng và lợn, được dãy số liệu :

2kg ; 1kg ; 5kg ; 75kg.

Dựa vào dãy số liệu trên, hãy viết tiếp vào chỗ chấm.

- a) Con lợn cân nặng ; b) Con vịt cân nặng
c) Con ngỗng cân nặng ; d) Con gà cân nặng
e) Con ngỗng cân nặng hơn con gà là ; g) Con vật nặng nhất là
h) Con vật nhẹ nhất là

2. Cho dãy số : 110 ; 220 ; 330 ; 440 ; 550 ; 660 ; 770 ; 880 ; 990. Hãy khoanh vào chữ đặt trước kết quả đúng :

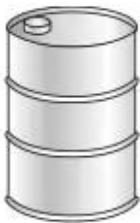
a) Dãy số trên có tất cả bao nhiêu số ?

- A. 10 số B. 27 số C. 9 số D. 881 số

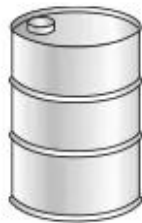
b) Số thứ tám trong dãy là số nào ?

- A. 3 B. 8 C. 220 D. 880

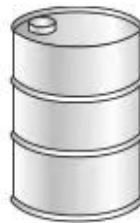
3. Số lít dầu đựng trong mỗi thùng được cho dưới đây :



Thùng 1 : 195l



Thùng 2 : 120l



Thùng 3 : 200l



Thùng 4 : 50l

a) Dãy số lít dầu đựng trong bốn thùng trên viết theo thứ tự từ bé đến lớn là :

.....

b) Dựa vào dãy vừa viết, hãy viết số thích hợp vào chỗ chấm :

+ Thùng 2 có nhiều hơn thùng 4 là . . . l dầu và ít hơn thùng 1 là . . . l dầu.

+ Cả bốn thùng có . . . l dầu.