

Bài giải

.....




.....

.....

.....

.....

4. Xem bảng dưới đây rồi viết số thích hợp vào chỗ chấm :

Tên người mua	 5000đồng	 2000đồng	 3000đồng	Số tiền phải trả
Lan	2	1	0	12 000 đồng
Hùng	1	2	2	15 000 đồng
Liên	1	1	1	10 000 đồng

a) Lan mua . . . con gấu, . . . quả bóng, . . . ô tô buýt.

Lan phải trả đồng.

b) Hùng mua . . . con gấu, . . . quả bóng, . . . ô tô buýt.

Hùng phải trả đồng.

c) Liên mua . . . con gấu, . . . quả bóng, . . . ô tô buýt.

Liên phải trả đồng.

d) Lan, Hùng, Liên mua tất cả . . . con gấu, . . . quả bóng, . . . ô tô buýt và phải trả tổng số tiền là. đồng.

e) Em có 20 000 đồng, em có thể mua được nhiều nhất là : . . . con gấu, . . . quả bóng, . . . ô tô buýt.