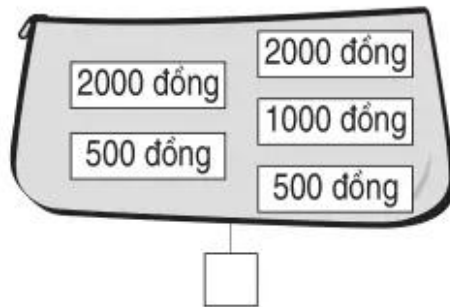
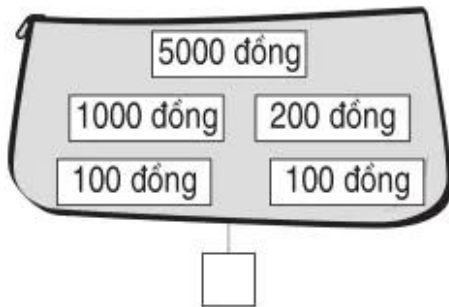
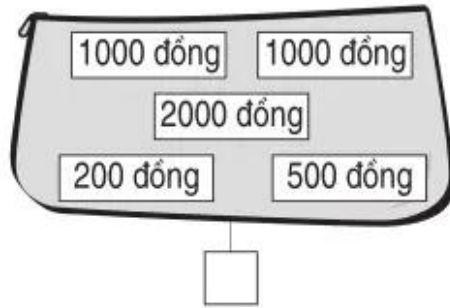
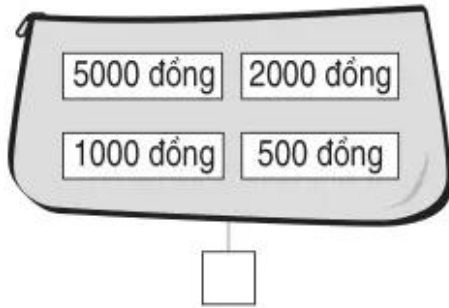


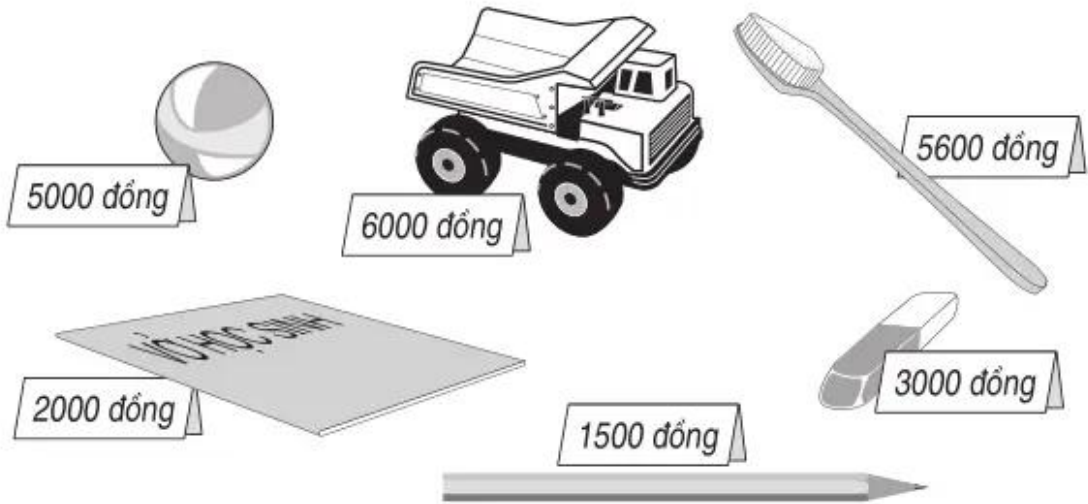
1. Đánh dấu × vào ô trống dưới chiếc ví có ít tiền nhất :



2. Tô màu các tờ giấy bạc để được số tiền tương ứng ở bên phải :



3. Xem tranh rồi viết tên đồ vật thích hợp vào chỗ chấm :



- a) Lan có 3000 đồng, Lan có *vừa đủ tiền* để mua được một .....
  - b) Cúc có 2000 đồng, Cúc có *vừa đủ tiền* để mua được một .....
  - c) An có 8000 đồng, An có *vừa đủ tiền* để mua được .....
- .....

4. Mẹ mua rau hết 5600 đồng. Mẹ đưa cô bán hàng một tờ giấy bạc loại 5000 đồng và một tờ loại 2000 đồng. Hỏi cô bán hàng phải trả lại mẹ bao nhiêu tiền ?

*Bài giải*

.....

.....

.....

.....

.....