

Bài 161 _____ **ÔN TẬP BỐN PHÉP TÍNH** _____
TRONG PHẠM VI 100 000 (tiếp theo)

1. Tính nhẩm :

a) $2000 + 4000 \times 2 = \dots\dots$

b) $18000 - 4000 : 2 = \dots\dots$

$(2000 + 4000) \times 2 = \dots\dots$

$(18000 - 4000) : 2 = \dots\dots$

2. Đặt tính rồi tính :

$897 + 7103$

$5000 - 75$

5142×8

.....

.....

.....

.....

.....

.....

.....

.....

.....

3805×6

$13889 : 7$

$65080 : 8$

.....

.....

.....

.....

.....

.....

.....

.....

.....

.....

.....

.....

$8942 + 5457 + 105$

$9090 + 505 + 807$

.....

.....

.....

.....

.....

.....

.....

.....

3. Trên sân vận động có 2450 học sinh cắm hoa đỏ hoặc hoa vàng để xếp hình, trong đó có $\frac{1}{5}$ số học sinh cắm hoa vàng. Hỏi có bao nhiêu học sinh cắm hoa đỏ ?

Bài giải

.....

Bài giải

.....

.....

.....

.....

.....

.....

.....

.....

.....

.....

.....

.....

.....

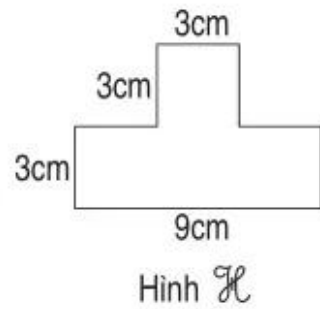
.....

.....

.....

3. Tính diện tích hình \mathcal{H} có kích thước ghi trên hình vẽ :

Bài giải



.....

.....

.....

.....

.....

.....

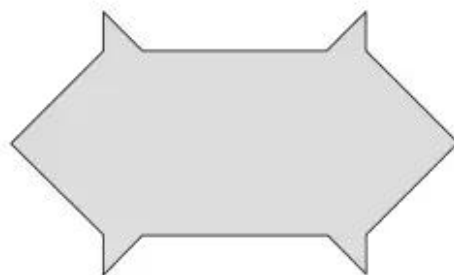
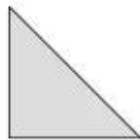
.....

.....

.....

.....

4. Cho 8 hình tam giác, mỗi hình như hình sau :



Hãy xếp thành hình bên :

4. Khoanh vào chữ đặt trước câu trả lời đúng :

Lan xếp bánh thành các hàng và các cột cho đầy khay rồi phủ khăn lên như hình bên :

Hỏi có bao nhiêu cái bánh ?

- A. 13 cái bánh B. 28 cái bánh
C. 22 cái bánh D. 35 cái bánh

