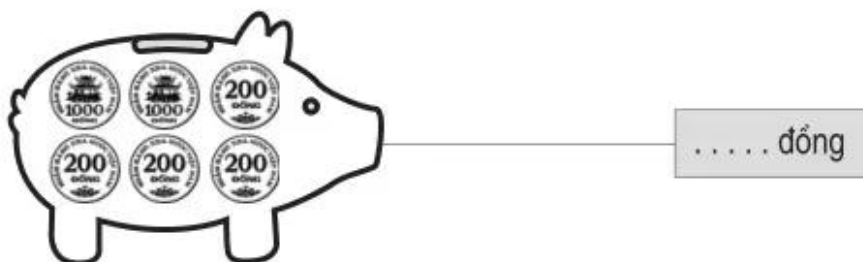
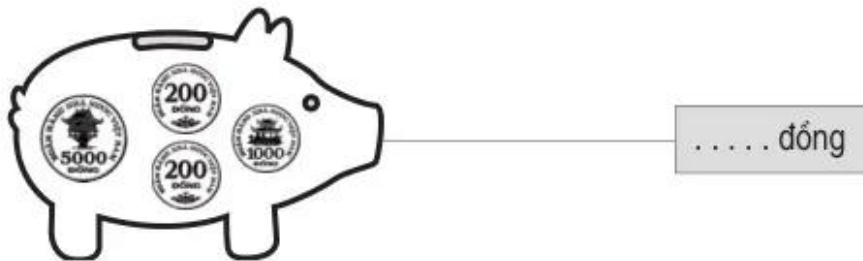
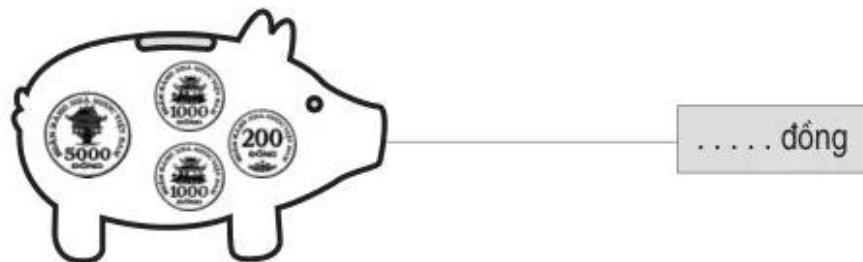
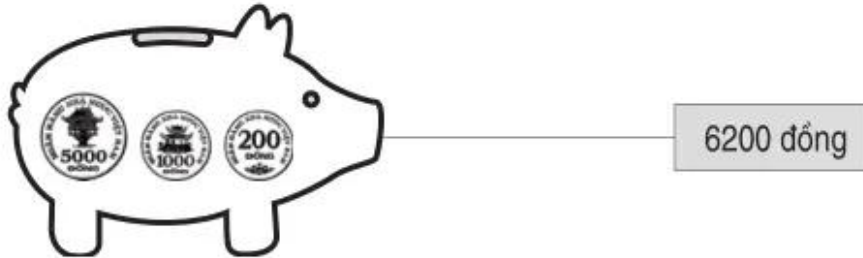


Bài 122 _____ TIỀN VIỆT NAM _____

1. Viết số thích hợp vào chỗ chấm (theo mẫu) :



2. Tô màu các tờ giấy bạc để được số tiền tương ứng ở bên phải (theo mẫu) :

1000 đồng	1000 đồng	1000 đồng	1000 đồng	2000 đồng
2000 đồng	2000 đồng	2000 đồng	2000 đồng	10 000 đồng
2000 đồng	2000 đồng	2000 đồng	2000 đồng	5000 đồng
2000 đồng	2000 đồng	2000 đồng	200 đồng	
2000 đồng	2000 đồng	2000 đồng	1000 đồng	5000 đồng
1000 đồng	1000 đồng	1000 đồng		
5000 đồng	2000 đồng	1000 đồng		10 000 đồng
5000 đồng	2000 đồng	1000 đồng		

3. Xem tranh rồi viết số hoặc chữ thích hợp vào chỗ chấm :

- a) Trong các đồ vật trên : đồ vật có giá tiền ít nhất là :
 đồ vật có giá tiền nhiều nhất là :
- b) Mua một chiếc thước kẻ và một đôi dép thì hết : đồng.
- c) Giá tiền một cái com pa ít hơn giá tiền một gói bánh là : đồng.