

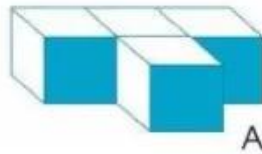


KIỂM TRA HỌC KÌ 1

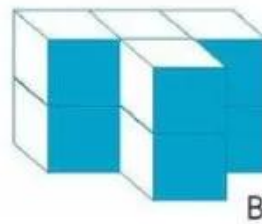
A. TRẮC NGHIỆM

I. Đúng ghi đ , sai ghi s .

Câu 1.



A



B

a) Hình A có 3 khối lập phương

b) Hình A có 4 khối lập phương

c) Hình B có 8 khối lập phương

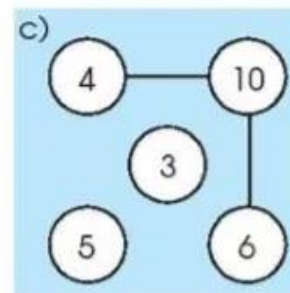
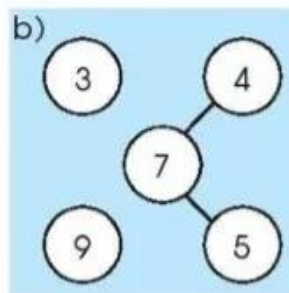
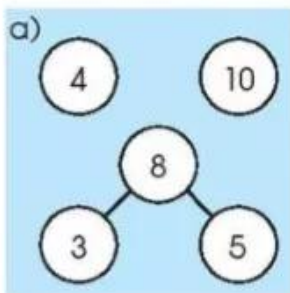
Câu 2. Các số sau được sắp xếp từ bé đến lớn.

a) 1, 4, 7, 6

b) 4, 6, 7, 1


c) 1, 4, 6, 7

Câu 3. Có một bạn lập các sơ đồ tách - gộp số như sau:

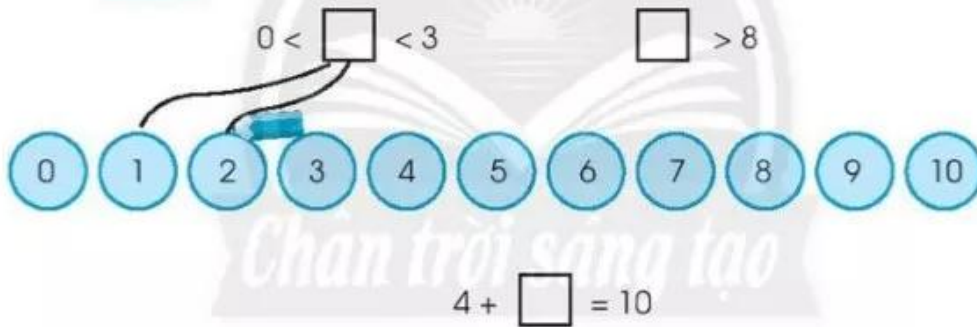


II. Nối (theo mẫu)

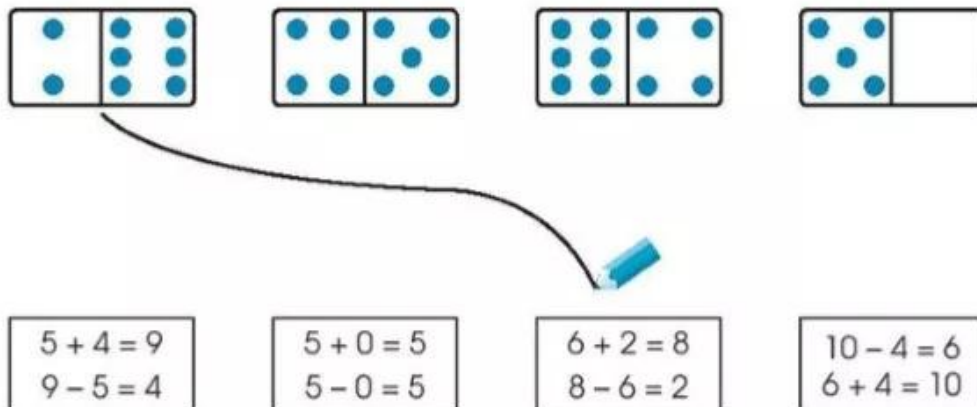
Câu 4.



Câu 5.



Câu 6.



B. TỰ LUẬN

Câu 1. Tính.

$7 - 5 = \dots$

$2 + 7 = \dots$


$10 - 7 + 6 = \dots$

$6 + 4 = \dots$

$8 - 7 = \dots$

$2 + 6 - 5 = \dots$

Câu 2. Tô màu để thể hiện phép tính: $9 - 3 = 6$.



Câu 3. Viết số thích hợp vào ô trống.

3	+	5	=	
+		-		-
1	-		=	
=		=		=
	+		=	8

Câu 4. Hình vẽ bên có:

... hình tam giác

... hình tròn

... hình chữ nhật

... hình vuông

