



KIỂM TRA

A. TRẮC NGHIỆM

I. Khoanh vào chữ cái trước ý trả lời đúng.

Câu 1. Viên gạch có dạng hình gì?

- A. Hình tam giác
- B. Hình tròn
- C. Hình vuông




Câu 2. Trong ba số: 1, 10, 0, số bé nhất là:

- A. 1
- B. 10
- C. 0

II. Đúng ghi [đ], sai ghi [s].

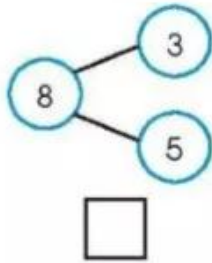
Câu 3.

- a) Con heo (con lợn) ở trên khối lập phương.
- b) Khối lập phương ở trên con heo.
- c) Khối lập phương ở phía sau con chuột.

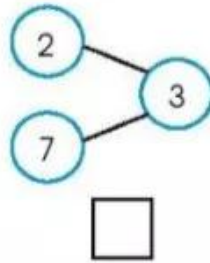


Câu 4.

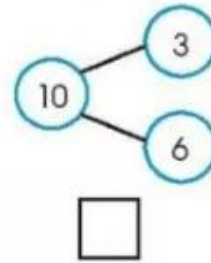
a)



b)



c)



III. Nối theo mẫu.

Câu 5.



Câu 6.

Chân trời sáng tạo

$3 > \square$






$3 = \square$

$3 < \square$

$2 < \square < 4$

B. TỰ LUẬN

Câu 1. Khoanh vào số (theo mẫu).

	10 5 8 3 2 9 4 7
	8 6 9 1 3 7 2 10 5 4
	1 8 7 6 10 3 5 4 9 2
	9 7 6 3 8 2 4 1 5 10
	4 7 3 10 1 6 2 5 8 9

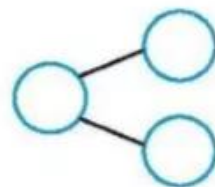
Câu 2. Viết các số 7, 0, 9, 4 theo thứ tự từ lớn đến bé.


.....

Câu 3. Vẽ thêm để có nhiều hơn 5 cái bánh.



Câu 4. Số?





3. Phép cộng, phép trừ trong phạm vi 10

