















SỐ 10

1  0 1 2 3 4 5 6 7 8 9 10



10										

2 Số?

 <input type="text"/> ...	 <input type="text"/> ...	 <input type="text"/> 2	 <input type="text"/> ...	 <input type="text"/> ...	 <input type="text"/> ...
 <input type="text"/> ...	 <input type="text"/> ...	 <input type="text"/> ...	 <input type="text"/> ...	 <input type="text"/> ...	


3 Làm theo mẫu.

Mẫu:

 <input type="text"/> 4	 <input type="text"/> 6
<input type="text"/> ● ● ● ●	<input type="text"/> ● ● ● ● ● ●


Hai số tạo thành 10.



a) 


5

●	●	●	●	●


b) 

7

●	●	●	●	●	●	●

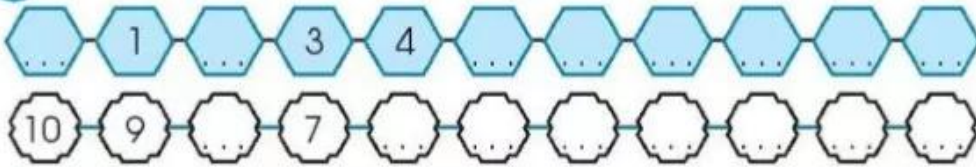
c) 

9

d) 

2

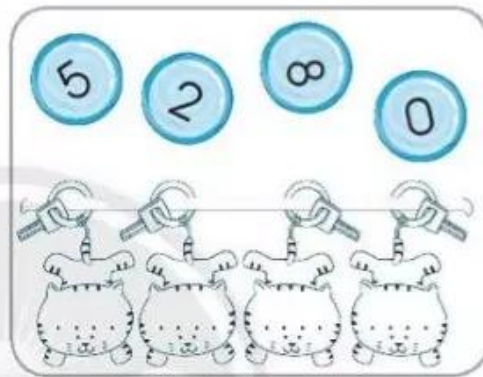

4 Số?



5 Viết các số theo thứ tự:

a) Từ bé đến lớn.

b) Từ lớn đến bé.



6 Đánh dấu (✓) vào:

a) Số lớn nhất.

b) Số bé nhất.



7 Nối theo mẫu.



8 Từ trái sang phải, đánh dấu (✓) vào con vật:

- Thứ hai
- Thứ năm
- Cuối cùng



9 Số?

6	5	4	
	1		3

7		5	
	1		

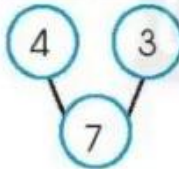
7	6		4
	1		3

8		6	
	1	2	4

10	9		7	6
		2		5

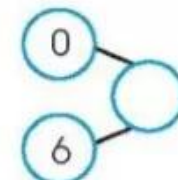
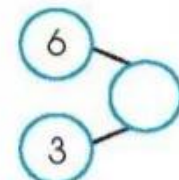
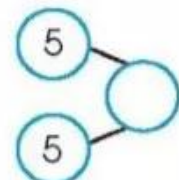
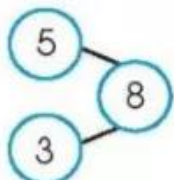
10 Số?

Mẫu:




11 Làm theo mẫu.

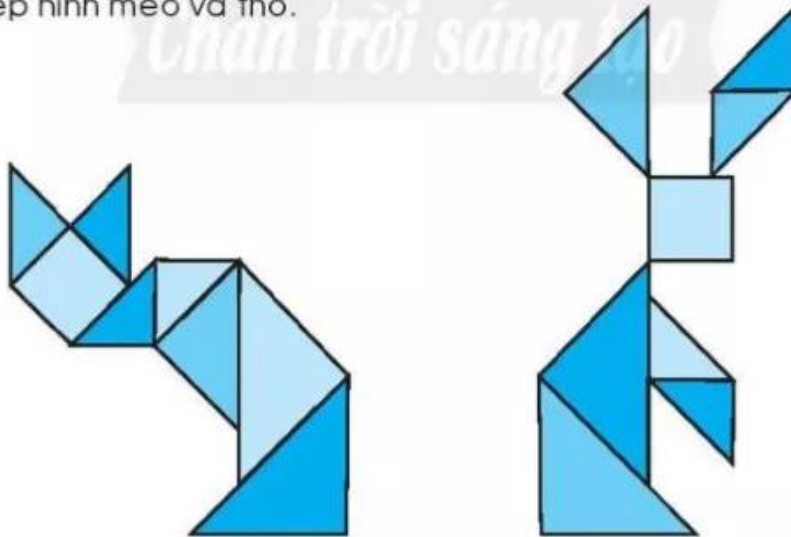
Mẫu:




12 Tìm thêm 1 gà con cho mỗi gà mẹ (theo mẫu).














13 Xếp hình mèo và thỏ.



14 Đếm rồi viết số con mỗi loại.



 ...	 ...	 ...	 ...	 ...	
 ...	 ...	 ...	 ...	 ...	 ...