





# SỐ 7



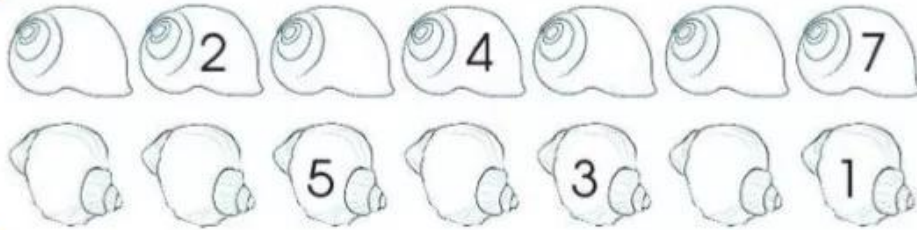
1 2 3 4 5 6 7



2 Làm theo mẫu.  
Mẫu:



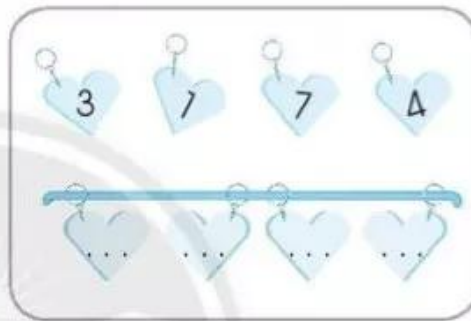
3 Số?



4 Viết các số theo thứ tự:

a) Từ bé đến lớn.

b) Từ lớn đến bé.



5 Làm theo mẫu.

Mẫu:



a)



b)



6 Khoanh các nhóm hai số tạo thành 7.

4	2	6	5
3	1	4	1
3	6	5	4
2	5	3	1

7



a) Số?

b) Nói theo tranh.

Có 3 con bướm,  
thêm 1 con bướm.  
Có tất cả 4 con bướm.