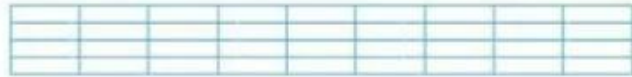
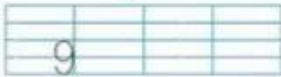

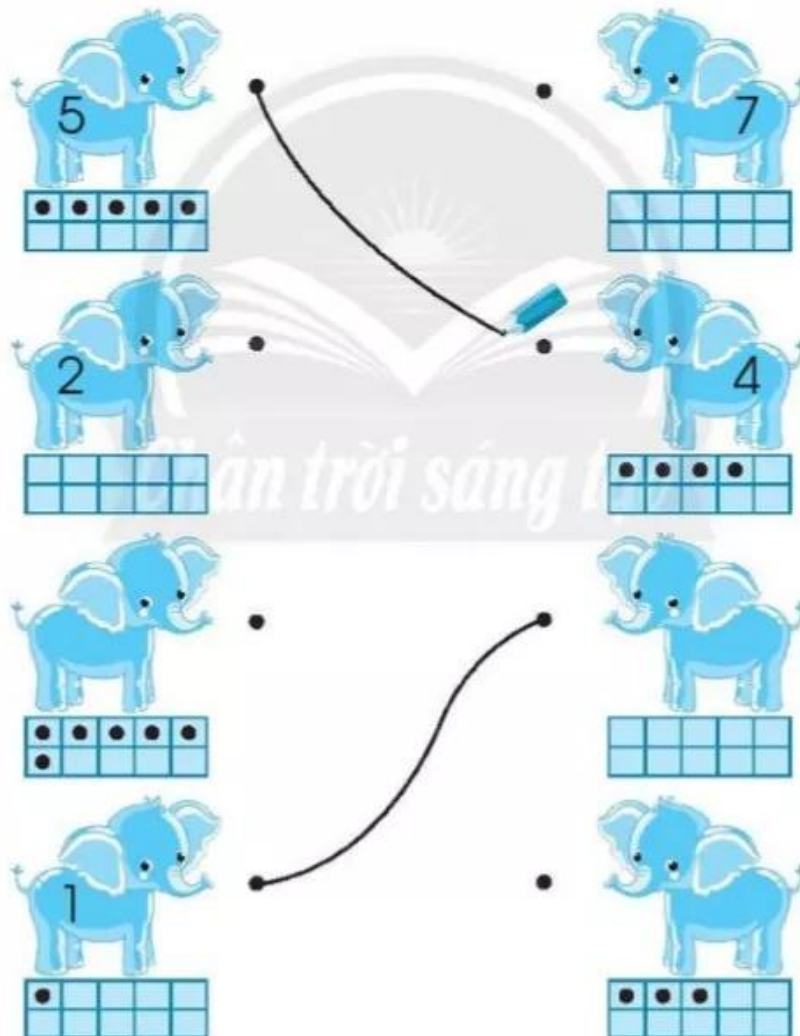





SỐ 9



2 Vẽ thêm chấm tròn hoặc viết số phù hợp, rồi nối hai con voi tạo thành 9 (theo mẫu).



3 Số?



4 Đúng ghi [đ], sai ghi [s].

Các số sau được sắp xếp theo thứ tự từ bé đến lớn.

- a) 2, 5, 6, 9 b) 1, 4, 9, 7
c) 9, 8, 3, 2 d) 3, 6, 7, 9

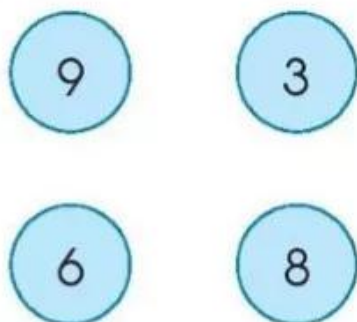
5



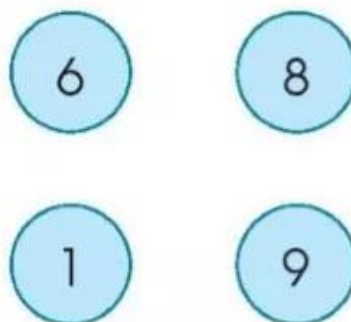
- 7 ... 2 5 ... 8 8 ... 9
? 6 ... 9 4 ... 1 9 ... 9

6 Nối để tạo thành sơ đồ tách - gộp số.

a)



b)



7 SỐ?



Vui học

Em có biết các con vật này?

