

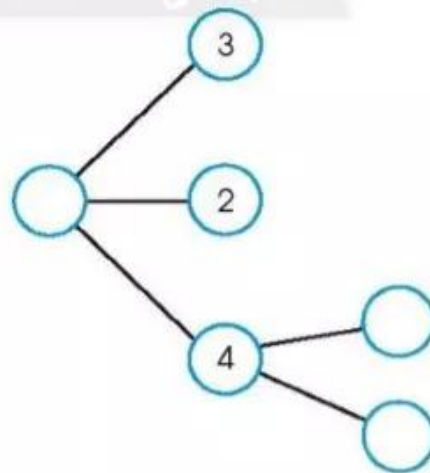




THỰC HÀNH VÀ TRẢI NGHIỆM

1. Đếm khối hộp chữ nhật, khối lập phương.

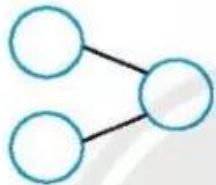


2. Số?



3 Viết số rồi nói theo mẫu câu.

a)

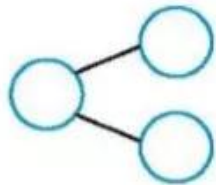


Có : ... con chim

thêm : ... con

Có tất cả : ... con.

b)



Có tất cả : ... con chim

bay đi : ... con

Còn lại : ... con.