



1 Số ?

a)

Số hạng	2	3	4	5	6	7	8
Số hạng	9	8	9	7	6	8	5
Tổng	11	?	?	?	?	?	?

b)



2 Hai quạt nào có chung ổ cắm điện?



3 a) Toa tàu nào dưới đây ghi phép tính có kết quả lớn nhất?



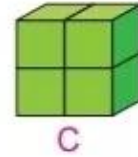
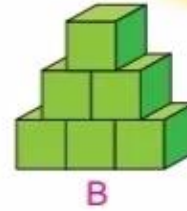
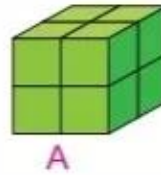
b) Những toa tàu nào dưới đây ghi phép tính có kết quả bé hơn 15?



4 Một bạn đã xếp các khối lập phương nhỏ thành ba hình A, B, C (như hình vẽ).



- a) Hình nào có số khối lập phương nhỏ nhiều nhất?  
 b) Hình A và B có tất cả bao nhiêu khối lập phương nhỏ?



**luyện tập**

1 Số ?

	4	7	6	8	5	7
+	8	6	9	4	6	5
	12	?	?	?	?	?

2 Có 6 bạn đang chơi bóng rổ, sau đó thêm 3 bạn chạy đến cùng chơi. Hỏi lúc đó có tất cả bao nhiêu bạn chơi bóng rổ?



3 Dưới hồ nước có 15 con cá sấu, sau đó có 3 con lên bờ. Hỏi còn lại bao nhiêu con cá sấu ở dưới hồ nước?





Trò chơi

## BẮT VỊT

Cách chơi:

- Chơi theo nhóm.
- Người chơi bắt đầu từ ô **xuất phát**. Khi đến lượt, người chơi gieo xúc xắc. Đếm số chấm ở mặt trên xúc xắc rồi di chuyển số ô bằng số chấm đó. Nếu kết quả phép tính tại ô đi đến rồi bắt một con vịt ghi số bằng kết quả đó.
- Trò chơi kết thúc khi bắt được 5 con vịt.

