

Bài 11

PHÉP TRỪ (qua 10) TRONG PHẠM VI 20



Khám phá

Việt có 11 viên bi, Việt cho Mai 5 viên bi. Hỏi Việt còn lại mấy viên bi?



$$11 - 5 = ?$$

Đếm lùi: 11, 10, 9, 8, 7, 6.


$$\text{Vậy } 11 - 5 = 6$$

Đếm thế thì khó nhì!
Minh tính theo cách
dưới đây nhé.



Tách số:

- Tách: $11 = 10 + 1$
- $10 - 5 = 5$
- $5 + 1 = 6$



Việt còn lại 6 viên bi.

$$11 - 5 = 6$$



hoạt động

1

a) Tính $11 - 6$.

- Tách: $11 = 10 + 1$
- $10 - 6 = 4$
- $4 + 1 = ?$

$$11 - 6 = ?$$

b) Tính $13 - 5$.

- Tách: $13 = 10 + 3$
- $10 - ? = ?$
- $? + 3 = ?$

$$13 - 5 = ?$$

2 Tính nhẩm.

$11 - 2$

$11 - 3$

$11 - 4$

$11 - 5$

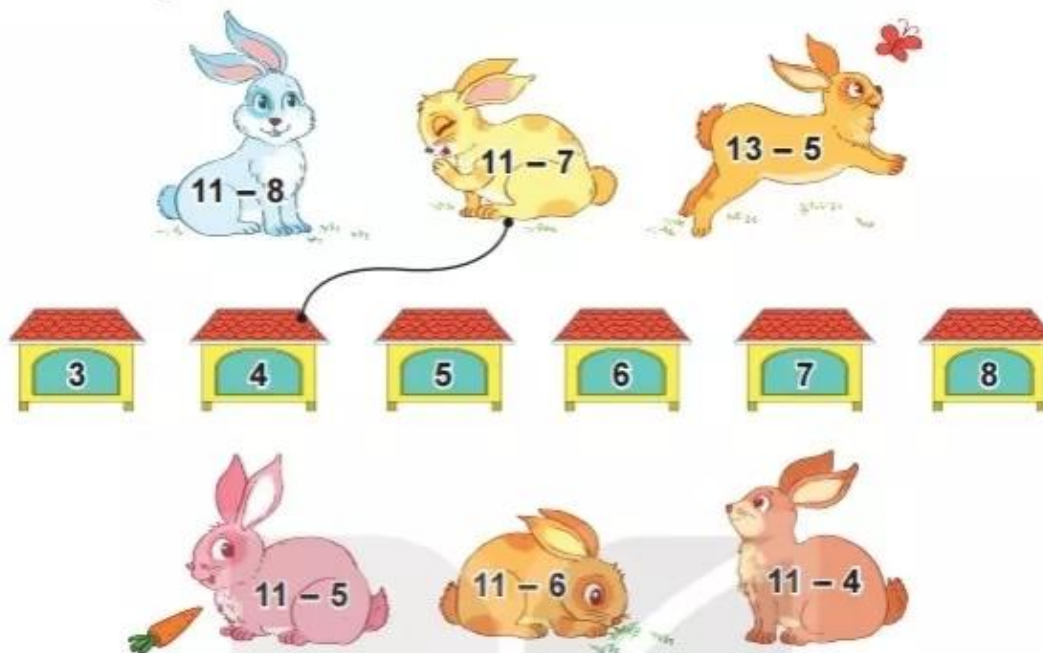
$11 - 6$

$11 - 7$

$11 - 8$

$11 - 9$

3 Tìm chuồng cho mỗi chú thỏ.



1

a) Tính $12 - 4$.

- Tách: $12 = 10 + 2$
- $10 - 4 = ?$
- $? + 2 = ?$

$$12 - 4 = ?$$

b) Tính $13 - 6$.

- Tách: $13 = 10 + ?$
- $10 - ? = ?$
- $? + ? = ?$

$$13 - 6 = ?$$

2

Tính nhẩm.

$12 - 3$	$12 - 4$	$12 - 5$	$12 - 6$
$12 - 7$	$12 - 8$	$12 - 9$	$12 - 2$

3

Số ?

-	13	13	13	13	13	13
	4	5	6	7	8	9
	9	?	?	?	?	?

- 4 Tìm bông hoa cho ong đậu. Bông hoa nào có nhiều ong đậu nhất?



- 5 Mai có 13 tờ giấy màu, Mai đã dùng 5 tờ giấy màu để cắt dán bức tranh. Hỏi Mai còn lại bao nhiêu tờ giấy màu?



 **luyện tập**

1

a) Tính $14 - 5$.

- Tách: $14 = 10 + 4$
 - $10 - 5 = ?$
 - $? + 4 = ?$
- $14 - 5 = ?$

b) Tính $15 - 7$.

- Tách: $15 = 10 + ?$
 - $10 - ? = ?$
 - $? + ? = ?$
- $15 - 7 = ?$

2

Tính nhẩm.

$15 - 5$	$15 - 6$	$15 - 7$
$15 - 8$	$15 - 9$	$15 - 10$

3

Số ?

-	14	14	14	14	14
	5	6	7	8	9
	9	?	?	?	?

4

Những máy bay nào ghi phép trừ có hiệu bằng 7? Những máy bay nào ghi phép trừ có hiệu bằng 9?



- 5 Bà có 14 quả ổi, bà cho cháu 6 quả. Hỏi bà còn lại bao nhiêu quả ổi?



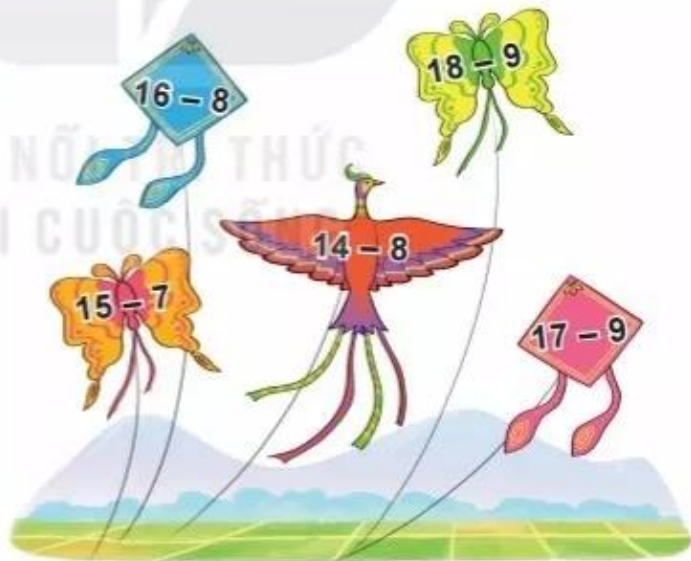
- 1 Tính nhẩm.

$16 - 7$	$16 - 8$	$16 - 9$
$17 - 8$	$17 - 9$	$18 - 9$

- 2 Số ?

Số bị trừ	16	17	16	18	17	16
Số trừ	9	9	8	9	8	7
Hiệu	?	?	?	?	?	?

- 3 Cánh diều nào ghi phép trừ có hiệu lớn nhất? Cánh diều nào ghi phép trừ có hiệu bé nhất?



- 4 Mai hái được 16 bông hoa, Mi hái được 9 bông hoa. Hỏi Mai hái được hơn Mi bao nhiêu bông hoa?

- 5 >; <; = ?

a) $16 - 8$ 8
 $15 - 9$ 7

b) $17 - 9$ $13 - 7$
 $18 - 9$ $15 - 6$

 **luyện tập**

1 Số ?

$11 - 6 = ?$ $13 - 8 = ?$ $15 - 7 = ?$ $18 - 9 = ?$
 $17 - 8 = ?$ $14 - 5 = ?$ $11 - 8 = ?$ $12 - 4 = ?$

2 Tính.

a) $7 + 5$	b) $8 + 6$	c) $9 + 8$
$5 + 7$	$6 + 8$	$8 + 9$
$12 - 7$	$14 - 8$	$17 - 9$
$12 - 5$	$14 - 6$	$17 - 8$

3 Tính nhẩm.

a) $13 - 3 - 4$	b) $15 - 5 - 3$	c) $14 - 4 - 1$
$13 - 7$	$15 - 8$	$14 - 5$

4 Số ?



5 Có 15 vận động viên đua xe đạp, 6 vận động viên đã qua cầu. Hỏi còn bao nhiêu vận động viên chưa qua cầu?

