

Chủ đề
3

**LÀM QUEN VỚI
KHỐI LƯỢNG, DUNG TÍCH**

Bài 15

KI-LÔ-GAM



Nặng hơn, nhẹ hơn



a)

- Túi quả **nặng hơn** túi rau.
- Túi rau **nhẹ hơn** túi quả.



b)

- Quả dưa hấu **nặng bằng** 2 quả bưởi.

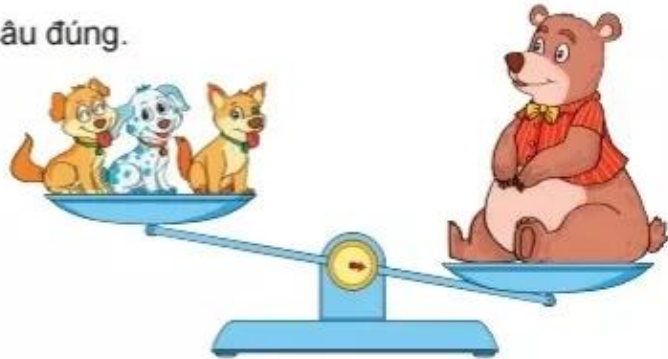




hoạt động

1 Quan sát tranh rồi chọn câu đúng.

- A. Con gấu nặng hơn 3 con chó.
- B. Con gấu nhẹ hơn 3 con chó.
- C. Con gấu nặng bằng 3 con chó.

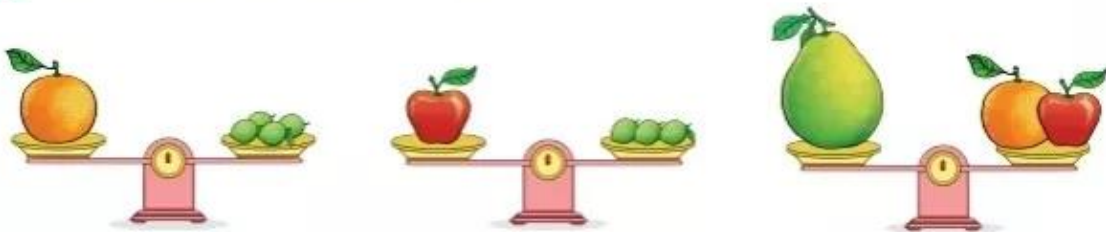


2 Quan sát tranh rồi trả lời câu hỏi.



- a) Mèo và chó, con nào nặng hơn?
- b) Mèo và thỏ, con nào nặng hơn?
- c) Mèo, chó và thỏ, con nào nặng nhất, con nào nhẹ nhất?

3 Quan sát tranh rồi trả lời câu hỏi.



- a) Quả cam nặng bằng mấy quả chanh?
- b) Quả táo nặng bằng mấy quả chanh?
- c) Quả bưởi nặng bằng mấy quả chanh?

Ki-lô-gam

a)



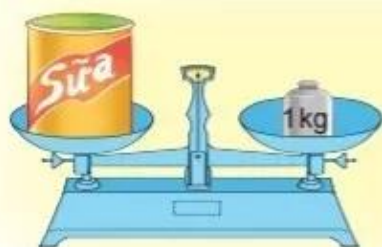
Con sóc cân nặng bằng 1 quả bưởi.

b)

Đây là quả cân 1 ki-lô-gam:



Ki-lô-gam viết tắt là kg.



Hộp sữa cân nặng 1 kg.




Túi gạo cân nặng 2 kg.

hoạt động

1 Đ, S ?

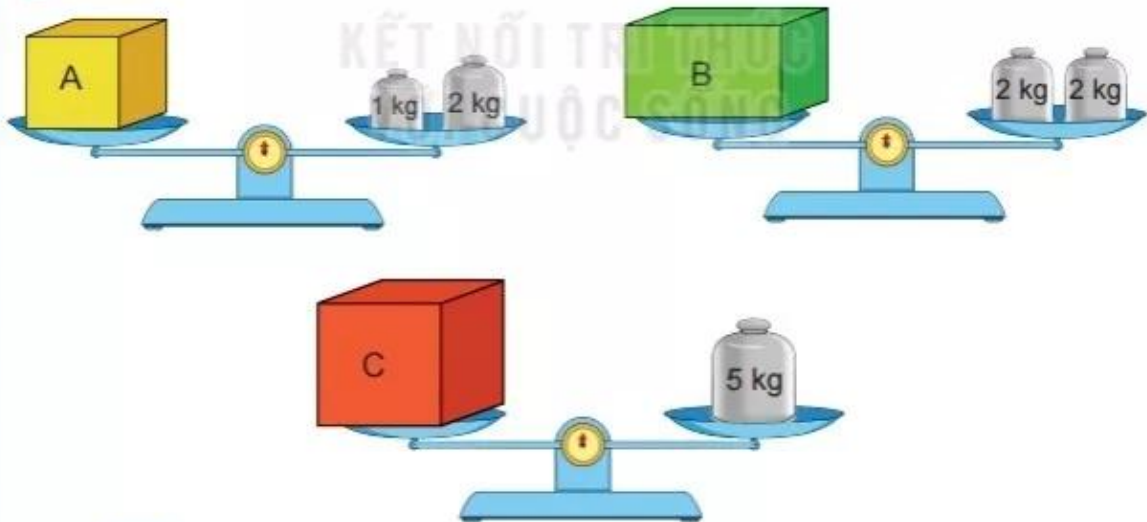
- a) Quả bóng nhẹ hơn 1 kg.
- b) Nải chuối nặng hơn 1 kg.
- c) Quả bưởi cân nặng 1 kg.
- d) Quả bóng nặng bằng quả bưởi.
- e) Nải chuối nặng hơn quả bưởi.



2 Đọc cân nặng của mỗi quả hoặc đồ vật dưới đây.



3 Quan sát tranh rồi trả lời.



- a) **Số ?**
Hộp A cân nặng kg. Hộp B cân nặng kg. Hộp C cân nặng kg.
- b) Hộp nào nặng nhất? Hộp nào nhẹ nhất?



Luyện tập

1 Tính (theo mẫu).

Mẫu: $5 \text{ kg} + 4 \text{ kg} = 9 \text{ kg}$; $10 \text{ kg} - 3 \text{ kg} = 7 \text{ kg}$

- | | | |
|------------------------------------|---------------------------------|---------------------------------|
| a) $12 \text{ kg} + 23 \text{ kg}$ | $45 \text{ kg} + 20 \text{ kg}$ | $9 \text{ kg} + 7 \text{ kg}$ |
| b) $42 \text{ kg} - 30 \text{ kg}$ | $13 \text{ kg} - 9 \text{ kg}$ | $60 \text{ kg} - 40 \text{ kg}$ |

2 Số ?



- a) Con ngỗng cân nặng ? kg.
b) Con gà cân nặng ? kg.

3 Tìm tổng số ki-lô-gam thóc của hai bao thóc.



4 Ba chú rô-bốt rủ nhau đi cân. Rô-bốt A cân nặng 32 kg, rô-bốt B nặng hơn rô-bốt A là 2 kg, rô-bốt C nhẹ hơn rô-bốt A là 2 kg. Hỏi:

- a) Rô-bốt B cân nặng bao nhiêu ki-lô-gam?
b) Rô-bốt C cân nặng bao nhiêu ki-lô-gam?

