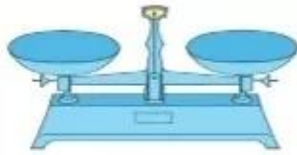


**THỰC HÀNH VÀ TRẢI NGHIỆM
VỚI CÁC ĐƠN VỊ KI-LÔ-GAM, LÍT**

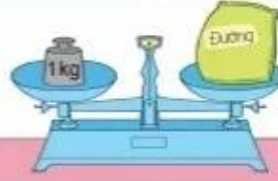


khám phá

a) Giới thiệu một số loại cân và cách cân.



Cân đĩa



Gói đường cân nặng 1 kg.



Cân đồng hồ



Con vịt cân nặng 2 kg.



Cân bàn đồng hồ



Mi cân nặng 18 kg.

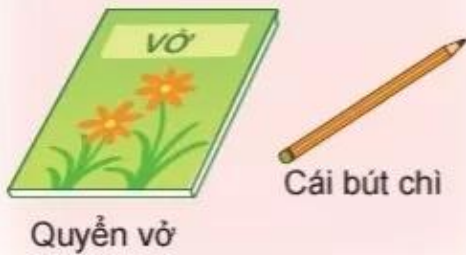
b) Em thực hành đo lượng nước bằng các ca 1 l, chai 1 l hoặc các cốc nhỏ.



 hoạt động

1 Em đoán xem đồ vật nào nặng hơn, đồ vật nào nhẹ hơn.

a)



b)



2 Quan sát tranh rồi trả lời.



- Em đoán xem quả bưởi và quả cam, quả nào nặng hơn.
- Quả bưởi cân nặng mấy ki-lô-gam?
- Quả cam nặng hơn hay nhẹ hơn 1 kg?

3 Quan sát tranh rồi trả lời câu hỏi.



- Mỗi túi cân nặng bao nhiêu ki-lô-gam?
- Túi gạo nặng hơn túi muối mấy ki-lô-gam?

 **hoạt động**

1 Bốn bạn Mai, Nam, Việt và Rô-bốt cân kiểm tra sức khoẻ được kết quả như sau:



a) **Số ?**

Tên	Việt	Rô-bốt	Nam	Mai
Cân nặng	24 kg	? kg	? kg	? kg

b) Bạn nào cân nặng nhất? Bạn nào cân nhẹ nhất?

2 Bằng cái cân đĩa, cân đồng hồ, cân bàn đồng hồ, hãy tập cân một số đồ vật xung quanh em.



- 3 Rót hết nước từ bình của Việt và Mai được các cốc nước (như hình vẽ). Bình nước của bạn nào chứa được nhiều nước hơn và nhiều hơn mấy cốc?



4



Lượng nước ở bình A bằng 9 cốc.

Lượng nước ở bình B bằng 7 cốc.

- a) Lượng nước ở cả hai bình bằng bao nhiêu cốc?
b) Lượng nước ở bình nào ít hơn và ít hơn bao nhiêu cốc?
- 5 Dùng ca 1 l, mức nước ở trong thùng đổ 3 ca đầy vào xô màu vàng và 5 ca đầy vào xô màu đỏ. Hỏi cả hai xô có bao nhiêu lít nước?

