

Chủ đề
4

**PHÉP CỘNG, PHÉP TRỪ (có nhớ)
TRONG PHẠM VI 100**

Bài 19

**PHÉP CỘNG (có nhớ)
SỐ CÓ HAI CHỮ SỐ VỚI SỐ CÓ MỘT CHỮ SỐ**



khám phá



Tôi có
35 hạt gạo.

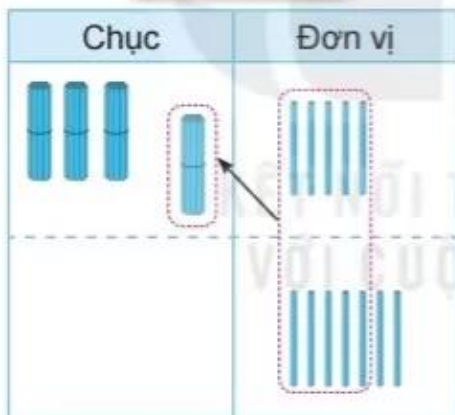
Chị Kiến ơi,
tôi trả cho chị
7 hạt gạo.



Vậy kiến có bao
nhiều hạt gạo?



$$35 + 7 = ?$$



$$\begin{array}{r} 35 \\ + 7 \\ \hline 42 \end{array}$$

- 5 cộng 7 bằng 12, viết 2, nhớ 1.
- 3 thêm 1 bằng 4, viết 4.

$$35 + 7 = 42$$



hoạt động

1 Tính.

$$\begin{array}{r} 28 \\ + 3 \\ \hline \end{array}$$

$$\begin{array}{r} 78 \\ + 9 \\ \hline \end{array}$$

$$\begin{array}{r} 57 \\ + 7 \\ \hline \end{array}$$

$$\begin{array}{r} 13 \\ + 7 \\ \hline \end{array}$$

2 Đặt tính rồi tính.

$$35 + 6$$

$$47 + 8$$

$$89 + 2$$

$$63 + 9$$

- 3 Mỗi chum đựng số lít nước là kết quả của phép tính ghi trên chum. Hỏi chum nào đựng nhiều nước nhất?



- 1 a) Số ?



- b) Đặt tính rồi tính.









$$35 + 5$$

$$69 + 4$$

$$19 + 3$$

$$29 + 6$$

- 2 Tính rồi tìm lá của mỗi loại quả.

	$49 + 8$	
	$19 + 7$	
	$89 + 3$	
	$69 + 1$	

- 3 Trên bàn có 18 vỏ ốc màu trắng và 5 vỏ ốc màu xanh. Hỏi trên bàn có tất cả bao nhiêu vỏ ốc?



- 4 Số ?



luyện tập

- 1 Đặt tính rồi tính.

$$83 + 9$$

$$57 + 4$$


$$62 + 8$$

$$39 + 5$$

- 2 Buổi sáng, bác Mạnh thu hoạch được 87 bao thóc. Buổi chiều, bác Mạnh thu hoạch được nhiều hơn buổi sáng 6 bao thóc. Hỏi buổi chiều bác Mạnh thu hoạch được bao nhiêu bao thóc?



- 3 Chú gà bới đất làm mất kết quả của các phép tính mà Việt vừa viết. Hãy tìm lại kết quả giúp bạn Việt nhé!



- 4 Chọn kết quả đúng.

a) $28 + 9 + 2 = ?$

A. 37

B. 39

C. 30

b) $45 + 5 + 8 = ?$

A. 58

B. 48

C. 68

- 5 Tính tổng các số trên những hạt dẻ mà chú sóc nhặt được trên đường về nhà.

