

## Bài 2

# TIA SỐ. SỐ LIÊN TRƯỚC, SỐ LIÊN SAU

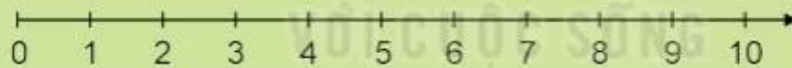


Khám phá

a)



Rô-bốt đã sắp xếp các số theo thứ tự từ bé đến lớn như hình sau:



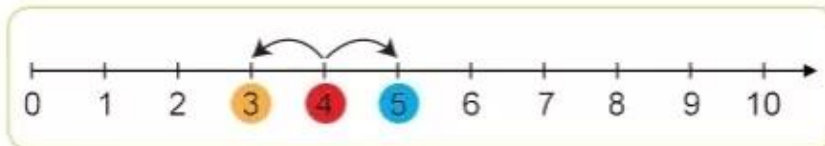
Đây là tia số.



Trên tia số:

- Số 0 ở vạch đầu tiên, là số bé nhất.
- Mỗi số lớn hơn các số ở bên trái nó và bé hơn các số ở bên phải nó.

b)

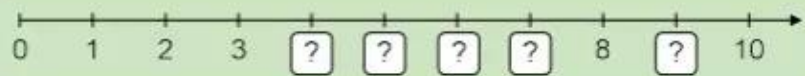


**Số liền trước** của 4 là 3. **Số liền sau** của 4 là 5.

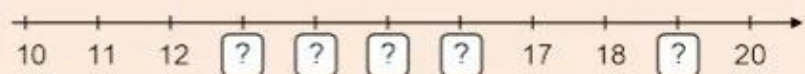
 **hoạt động**

**1** Số ?

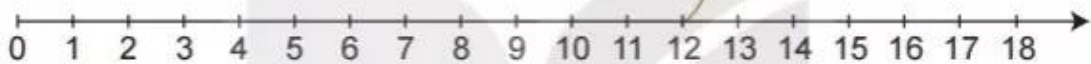
a)



b)



**2** Mỗi quả bóng ứng với vạch nào trên tia số?

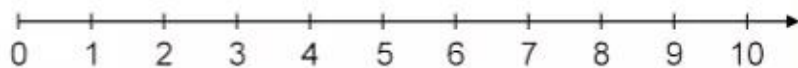


**3** Đ, S ?

- |   |   |
|---|---|
| a) Số liền trước của 16 là 15. <input type="text"/> | b) Số liền trước của 16 là 17. <input type="text"/> |
| c) Số liền sau của 18 là 17. <input type="text"/>   | d) Số liền sau của 18 là 19. <input type="text"/>   |
| e) Số liền trước của 1 là 0. <input type="text"/>   | g) Số liền sau của 1 là 2. <input type="text"/>     |

 **luyện tập**

**1** Tìm trên tia số:



- a) Những số bé hơn 5.  
b) Những số vừa lớn hơn 3 vừa bé hơn 6.

**2** Chọn câu trả lời đúng.

Ghép hai trong ba thẻ số bên được tất cả bao nhiêu số có hai chữ số?

- A. 6      B. 5      C. 4



**3** Số ?



- a) Toa liền sau toa 50 là toa ? .  
 Toa liền trước toa 51 là toa ? .
- b) Toa liền trước toa 49 là toa ? .  
 Toa liền sau toa 52 là toa ? .
- c) Ở giữa toa 49 và toa 51 là toa ? .  
 Ở giữa toa 50 và toa 53 là toa ? và toa ? .

**4** Số ?

Số liền trước	Số đã cho	Số liền sau
59	60	61
?	53	?
?	86	?
?	69	?
?	72	?

- 5** Thỏ đen, thỏ nâu, thỏ trắng và thỏ xám đang chuẩn bị chạy thi. Các làn chạy được đánh số lần lượt từ bé đến lớn. Thỏ trắng chạy ở làn số nào?

