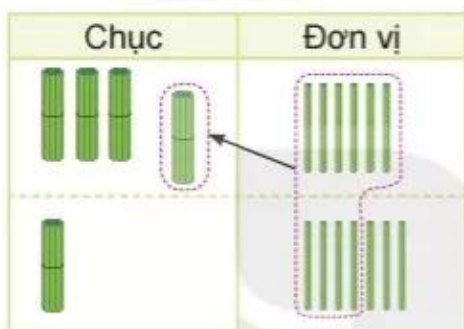


**PHÉP CỘNG (có nhớ)**  
**SỐ CÓ HAI CHỮ SỐ VỚI SỐ CÓ HAI CHỮ SỐ**



**khám phá**

$36 + 17 = ?$



Cháu có 17 cục pin.

Cháu có 36 cục pin.

Cả hai cháu có bao nhiêu cục pin?



$$\begin{array}{r} 36 \\ + 17 \\ \hline 53 \end{array}$$

- 6 cộng 7 bằng 13, viết 3, nhớ 1.
- 3 thêm 1 bằng 4, 4 cộng 1 bằng 5, viết 5.

$36 + 17 = 53$



**hoạt động**

KẾT NỐI TRI THỨC  
VỚI CUỘC SỐNG

**1** Tính.

$\begin{array}{r} 17 \\ + 24 \\ \hline \end{array}$	$\begin{array}{r} 37 \\ + 36 \\ \hline \end{array}$	$\begin{array}{r} 42 \\ + 48 \\ \hline \end{array}$	$\begin{array}{r} 59 \\ + 25 \\ \hline \end{array}$
---	---	---	---

**2** Đặt tính rồi tính.

$23 + 67$	$46 + 18$	$59 + 21$	$64 + 19$
-----------	-----------	-----------	-----------

**3** Mỗi hình có 1 que tính đặt sai vị trí. Em hãy đặt lại cho đúng. Biết rằng:

- a) Que tính ở kết quả đặt sai.      b) Que tính ở số hạng thứ hai đặt sai.

$36 + 45 = 97$

$74 + 16 = 84$





## Luyện tập

1 Đặt tính rồi tính.

$36 + 36$

$73 + 17$

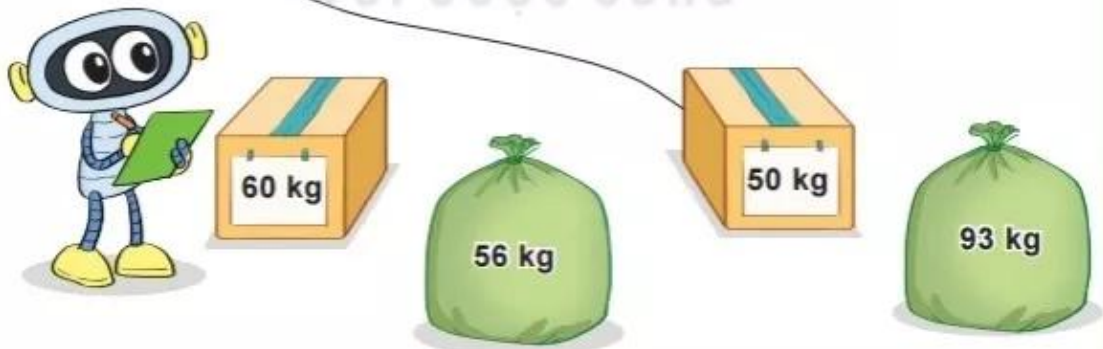
$28 + 53$

$25 + 35$

2 Con tàu nào ghi phép tính đúng?



3 Tính rồi tìm thùng hoặc bao hàng thích hợp.



4 Ngày thứ nhất, Mai làm được 29 tấm bưu thiếp. Ngày thứ hai, Mai làm được 31 tấm bưu thiếp. Hỏi cả hai ngày Mai làm được bao nhiêu tấm bưu thiếp?



**5** Số ?

Kiến đồ phải bò qua bụi cỏ để đến cái kẹo.

Kiến đồ phải bò  cm.



**luyện tập**

**1** Đặt tính rồi tính.


$47 + 43$

$43 + 47$

$65 + 28$

$28 + 65$

**2** Nêu tên các tàu ngầm theo thứ tự kết quả của phép tính từ bé đến lớn.



**3** Chọn câu trả lời đúng.

Con đường nào ngắn nhất để kiến vàng bò đến hạt gạo?



A. Đường màu đỏ

B. Đường màu xanh

C. Đường màu đen

**4** Tính.

$23 + 27 + 1$

$45 + 45 + 2$

$58 + 12 + 3$

$69 + 11 + 4$



## Luyện tập

1 Đặt tính rồi tính.

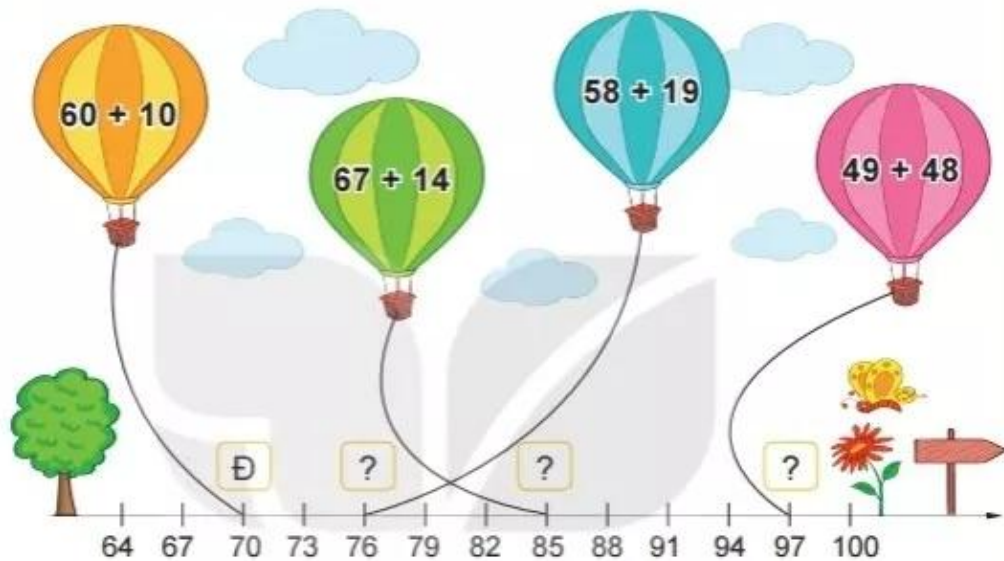
$38 + 52$

$15 + 15$

$67 + 17$

$72 + 19$

2 Đ, S ?



3 Số ?

a)  $45 \xrightarrow{+27} ? \xrightarrow{+19} ?$

b)  $45 \xrightarrow{+19} ? \xrightarrow{+27} ?$

4 Nam có 57 viên bi. Mai cho Nam thêm 15 viên bi. Hỏi lúc này Nam có bao nhiêu viên bi?

