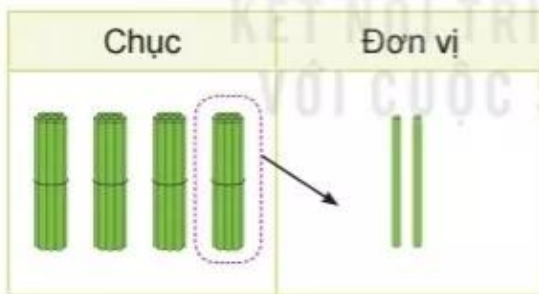


Bài 23

PHÉP TRỪ (có nhớ) SỐ CÓ HAI CHỮ SỐ CHO SỐ CÓ HAI CHỮ SỐ



$$42 - 15 = ?$$

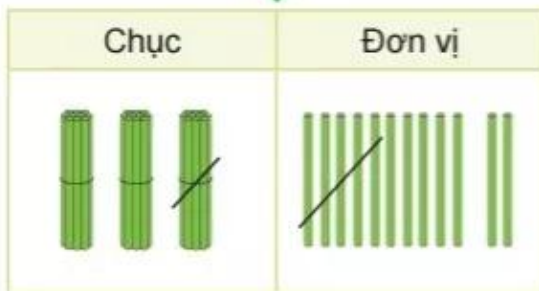


$$\begin{array}{r} 42 \\ - 15 \\ \hline 27 \end{array}$$

• 2 không trừ được 5, lấy 12 trừ 5 bằng 7, viết 7, nhớ 1.

• 4 trừ 1 bằng 3, 3 trừ 1 bằng 2, viết 2.

$$42 - 15 = 27$$





hoạt động

1 Tính.

$$\begin{array}{r} 72 \\ - 19 \\ \hline \end{array}$$

$$\begin{array}{r} 60 \\ - 28 \\ \hline \end{array}$$

$$\begin{array}{r} 93 \\ - 46 \\ \hline \end{array}$$

$$\begin{array}{r} 41 \\ - 32 \\ \hline \end{array}$$

2 Đặt tính rồi tính.

$63 - 36$

$72 - 27$

$54 - 16$

$80 - 43$

3 Trên cây khế có 90 quả. Chim thần đã ăn mất 24 quả. Hỏi trên cây còn lại bao nhiêu quả khế?



luyện tập

1 Đặt tính rồi tính.

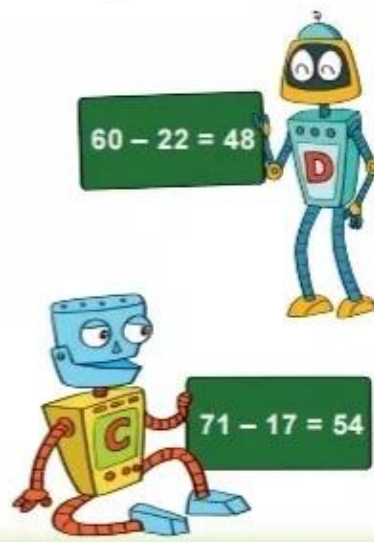
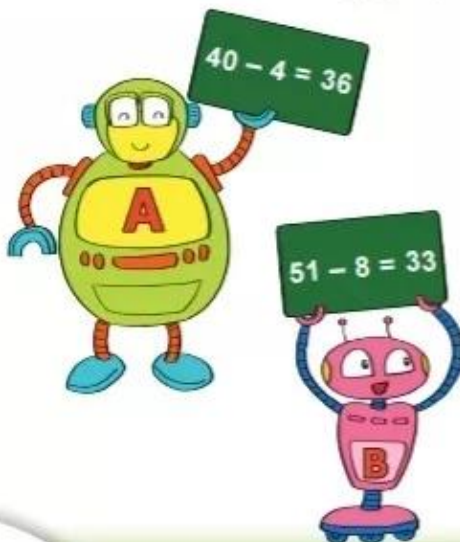
$35 - 28$

$53 - 34$

$80 - 27$

$90 - 52$

2 Bạn rô-bốt nào cầm bảng ghi phép tính đúng?



- 3 Rô-bốt A cân nặng 33 kg. Rô-bốt D nhẹ hơn rô-bốt A 16 kg. Hỏi rô-bốt D cân nặng bao nhiêu ki-lô-gam?



- 4 $>$; $<$; $=$?

a) $42 - 13$ 30

b) $52 - 15$ $60 - 15$

$70 - 25$ 45

$54 - 17$ $45 - 17$

- 5 Tại mỗi ngã rẽ, bạn nhím sẽ đi theo con đường ghi phép tính có kết quả lớn hơn. Bạn nhím sẽ đến chỗ món ăn nào?



luyện tập

- 1 Tính nhẩm.




$100 - 40$

$100 - 70$

$100 - 90$

- 2 Bình xăng của một ô tô có 42 / xăng. Ô tô đã đi một quãng đường hết 15 / xăng. Hỏi bình xăng của ô tô còn lại bao nhiêu lít xăng?

3



- a) Rô-bốt có thân dạng khối lập phương ghi phép tính có kết quả bằng bao nhiêu?
b) Rô-bốt nào ghi phép tính có kết quả lớn nhất?

4 Tìm quần phù hợp với áo.



luyện tập

1 Đặt tính rồi tính.

$54 - 27$

$72 - 36$

$50 - 25$

$95 - 48$

2 Tìm chữ số thích hợp.

$$\begin{array}{r} 4 \text{ ?} \\ - 17 \\ \hline 24 \end{array}$$

$$\begin{array}{r} 83 \\ - \text{ ? } 9 \\ \hline 2 \text{ ?} \end{array}$$

$$\begin{array}{r} \text{ ? } 1 \\ - 25 \\ \hline 4 \text{ ?} \end{array}$$

3 Toà nhà có 60 căn phòng. Có 35 căn phòng đã bật đèn. Hỏi còn bao nhiêu căn phòng chưa bật đèn?

4 Chọn kết quả đúng.

a) $32 + 48 - 16 = ?$

A. 54

B. 64

C. 74

b) $33 - 16 + 53 = ?$

A. 70

B. 60

C. 50

5 Mỗi con mèo sẽ câu con cá ghi phép tính có kết quả là số ghi trên xô.

Tim cá cho mỗi con mèo.



luyện tập

1 Số ?

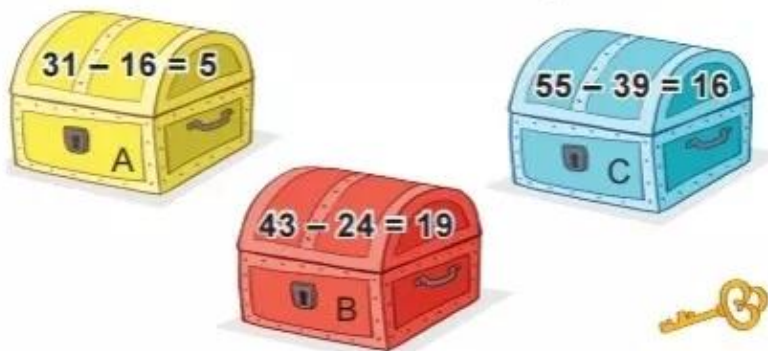
Số bị trừ	83	70	47	80	50
Số trừ	38	25	28	52	30
Hiệu	45	?	?	?	?

2 Biết:

- Hộp quà đựng vở là hộp quà ghi phép tính có kết quả lớn nhất.
 - Hộp quà đựng bút là hộp quà ghi phép tính có kết quả bé nhất.
- Hỏi hộp quà nào đựng vở, hộp quà nào đựng bút?



3 Chia khoá mở được chiếc hòm ghi phép tính đúng nhưng không mở được chiếc hòm màu xanh. Chia khoá mở được chiếc hòm nào?



4 Một đàn gà có 32 con gồm gà trống và gà mái, trong đó có 26 con gà mái. Hỏi đàn gà có bao nhiêu con gà trống?