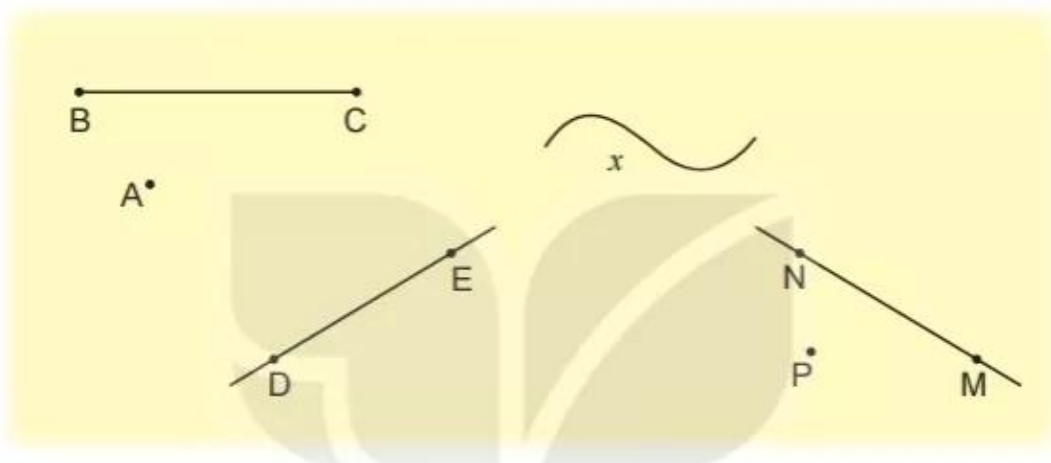




luyện tập

1 Đ, S ?




Trong hình vẽ trên có:

- a) Đoạn thẳng BC.
- b) Đường thẳng DE và đường thẳng MN.
- c) Ba điểm M, N, P thẳng hàng.
- d) Đường cong  $x$ .

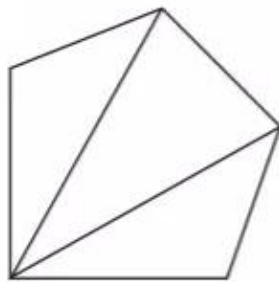
2 Cho ba điểm M, N, P thẳng hàng.

Kể tên các đoạn thẳng trong hình vẽ sau.



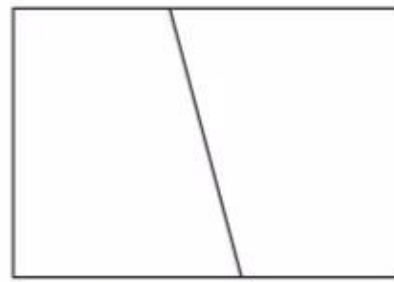
**3** Số ?

a)



Có ? hình tứ giác.

b)



Có ? hình tứ giác.

**4** Kể tên các nhóm ba bạn đứng thẳng hàng trong hình vẽ dưới đây.



**5** Hôm nay, chú ốc sên bò từ trường học đến sân bóng, rồi ghé qua thư viện và trở về nhà. Tính độ dài quãng đường mà ốc sên đã bò.

