

Chữ đề
6

**NGÀY - GIỜ, GIỜ - PHÚT,
NGÀY - THÁNG**

Bài 29

NGÀY - GIỜ, GIỜ - PHÚT



Khám phá

a)

Một ngày có bao nhiêu giờ và một giờ có bao nhiêu phút nhỉ?

Một ngày có 24 giờ.

Một giờ có 60 phút.



b) 24 giờ trong một ngày được tính từ 12 giờ đêm hôm trước đến 12 giờ đêm hôm sau.

Buổi	Các giờ đúng
Sáng	1 giờ sáng, 2 giờ sáng, 3 giờ sáng, 4 giờ sáng, 5 giờ sáng, 6 giờ sáng, 7 giờ sáng, 8 giờ sáng, 9 giờ sáng, 10 giờ sáng.
Trưa	11 giờ trưa, 12 giờ trưa.
Chiều	1 giờ chiều (13 giờ), 2 giờ chiều (14 giờ), 3 giờ chiều (15 giờ), 4 giờ chiều (16 giờ), 5 giờ chiều (17 giờ), 6 giờ chiều (18 giờ).
Tối	7 giờ tối (19 giờ), 8 giờ tối (20 giờ), 9 giờ tối (21 giờ).
Đêm	10 giờ đêm (22 giờ), 11 giờ đêm (23 giờ), 12 giờ đêm (24 giờ).

 hoạt động

1 Số ?

Nam làm gì lúc mấy giờ?



Nam và bố đi câu cá lúc ? giờ chiều.



Nam và bố đọc sách lúc ? giờ tối.



Lúc ? giờ đêm, Nam đang ngủ.

2 Tìm đồng hồ chỉ thời gian thích hợp với mỗi bức tranh.




Nam đi học lúc 7 giờ sáng.



Việt xem bóng đá lúc 7 giờ tối.



Rô-bốt vẽ tranh lúc 2 giờ chiều.




3 Chọn đồng hồ chỉ thời gian thích hợp với mỗi bức tranh.


a)



A  B 

b)



A  B 



Khám phá

Nam vẽ cảnh
mặt trời mọc
lúc 5 giờ 15
phút sáng.



Mai vẽ cảnh
mặt trời lặn
lúc 5 giờ 30
phút chiều.



hoạt động

1 Số ?

Mỗi bạn làm gì lúc mấy giờ?



Viết học bài
lúc ? giờ ? phút sáng.



Nam làm bài tập
lúc ? giờ ? phút chiều.



Mi ăn tối
lúc ? giờ ? phút.



Lúc ? giờ ? phút đêm,
Rô-bốt đang ngủ.

2 Tìm hai đồng hồ chỉ cùng thời gian vào buổi chiều, tối hoặc đêm.



3 Số ?

Nam làm gì lúc mấy giờ?



Nam học bài
lúc ? giờ ? phút sáng.



Nam ở thư viện
lúc ? giờ ? phút chiều.



Nam tan học lúc ? giờ chiều.



Nam rửa bát lúc ? giờ ? phút tối.