




luyện tập

1 Chọn câu trả lời đúng.

a)



Số thích hợp với ? là:

- A. 39      B. 40      C. 41

b) Nếu ngày 19 tháng 12 là thứ Hai thì ngày 22 tháng 12 là:

- A. Thứ Tư      B. Thứ Năm      C. Thứ Sáu

2 Tìm đồng hồ chỉ thời gian thích hợp với mỗi bức tranh.



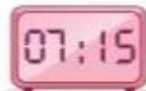
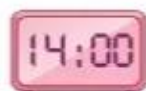
Nam đi học  
lúc 7 giờ 15 phút.



Nam tập vẽ  
lúc 2 giờ chiều.



Nam chơi đá bóng  
lúc 4 giờ 30 phút chiều.



Nam xem  
phim hoạt hình  
lúc 8 giờ tối.

3 Đặt tính rồi tính.

a)  $36 + 7$        $5 + 48$        $29 + 64$

b)  $73 - 6$        $82 - 57$        $91 - 85$

4 Rô-bốt cao 89 cm, Mi cao hơn Rô-bốt 9 cm. Hỏi Mi cao bao nhiêu xăng-ti-mét?

5 Có hai đường đi để kiến đến chỗ miếng bánh như hình dưới đây.

a) Số ?

– Đường đi ABC dài ? cm.

– Đường đi MNPQ dài ? cm.

b) Đường đi nào ngắn hơn?



### luyện tập

1 Chọn câu trả lời đúng.

a)



M



N



E



G

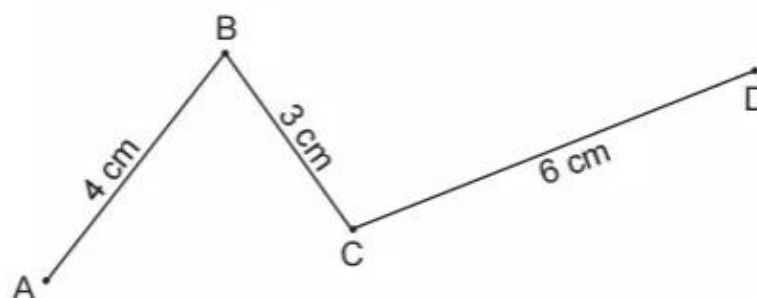
Hai đồng hồ chỉ cùng giờ vào buổi chiều là:

A. M và E

B. M và G

C. N và G

b)



Độ dài đường gấp khúc ABCD là:

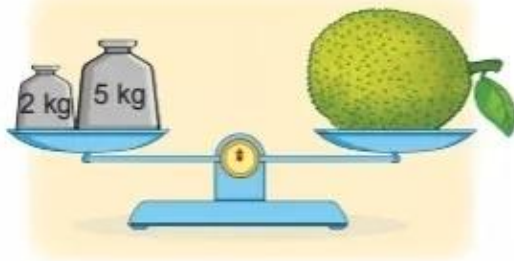
A. 7 cm

B. 12 cm

C. 13 cm

2 Số ?

a)



Quả mít cân nặng ? kg.

b) Rót đầy hai ca từ một can chứa đầy nước.



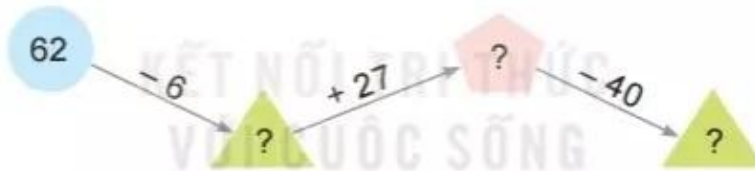
Trong can còn lại ? l nước.

3 Để ủng hộ các bạn vùng lũ lụt, lớp 2A quyên góp được 83 quyển sách, lớp 2B quyên góp được ít hơn lớp 2A là 18 quyển sách. Hỏi lớp 2B quyên góp được bao nhiêu quyển sách?




4 Số ?

a)



b)



5 Chọn câu trả lời đúng.

Số hình tứ giác có trong hình sau là:

- A. 2
- B. 3
- C. 4
- D. 5

