

# Bài 8

## BẢNG CỘNG (qua 10)



### khám phá

Mình và Rô-bốt cùng hoàn thành các phép cộng này nhé!



	$9 + 2 = 11$
	$8 + 6 = ?$
	$7 + 5 = ?$
	$6 + 6 = ?$

À, đó là các phép cộng qua 10. Chúng ta hoàn thành luôn bảng cộng (qua 10) nào!



$9 + 2 = 11$							
$9 + 3 = ?$	$8 + 3 = 11$						
$9 + 4 = 13$	$8 + 4 = 12$	$7 + 4 = 11$					
$9 + 5 = 14$	$8 + 5 = 13$	$7 + 5 = ?$	$6 + 5 = 11$				
$9 + 6 = 15$	$8 + 6 = 14$	$7 + 6 = 13$	$6 + 6 = 12$	$5 + 6 = 11$			
$9 + 7 = 16$	$8 + 7 = 15$	$7 + 7 = 14$	$6 + 7 = 13$	$5 + 7 = ?$	$4 + 7 = 11$		
$9 + 8 = 17$	$8 + 8 = 16$	$7 + 8 = 15$	$6 + 8 = 14$	$5 + 8 = 13$	$4 + 8 = 12$	$3 + 8 = 11$	
$9 + 9 = 18$	$8 + 9 = 17$	$7 + 9 = 16$	$6 + 9 = 15$	$5 + 9 = 14$	$4 + 9 = 13$	$3 + 9 = ?$	$2 + 9 = 11$



### hoạt động

1 Tính nhẩm.

$9 + 5$     $8 + 3$     $7 + 7$     $6 + 6$     $7 + 6$     $9 + 4$

2 Tìm cá cho mèo.



3 a) Những đèn lồng nào ghi phép tính có kết quả bằng nhau?

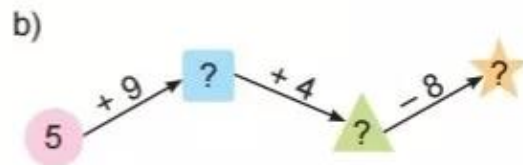
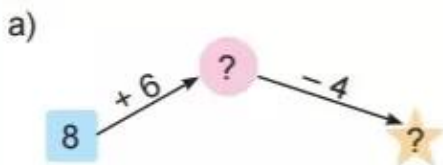
b) Trong bốn đèn lồng màu đỏ, đèn lồng nào ghi phép tính có kết quả lớn nhất, đèn lồng nào ghi phép tính có kết quả bé nhất?




1 Số ?

Số hạng	7	9	4	8	6	9
Số hạng	5	3	8	4	7	8
Tổng	12	?	?	?	13	?

2 Số ?



3 Tìm tổ ong cho gấu.



4 >, <, = ?

- a)  $6 + 6$  ?  $11$       b)  $9 + 3$  ?  $3 + 9$   
 $7 + 5$  ?  $12$        $9 + 2$  ?  $7 + 7$

5 Trong ca-bin thứ nhất có 7 người, trong ca-bin thứ hai có 8 người.  
Hỏi trong hai ca-bin có tất cả bao nhiêu người?

