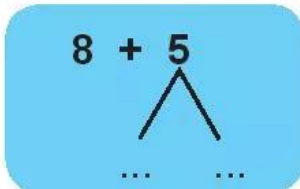


8 CỘNG VỚI MỘT SỐ

1 **Viết** vào chỗ chấm.



Gộp cho đủ rồi với số còn lại.

Tách ... ở số sau.

2 **Tính nhẩm.**

$8 + 7 = \dots\dots$

$8 + 3 = \dots\dots$

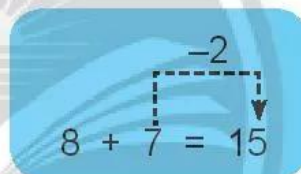
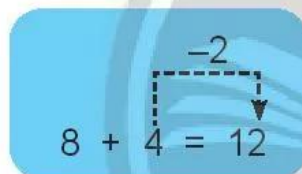
$8 + 5 = \dots\dots$

$8 + 6 = \dots\dots$

$8 + 8 = \dots\dots$

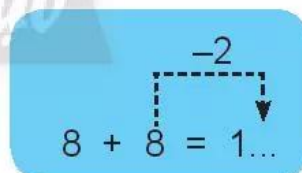
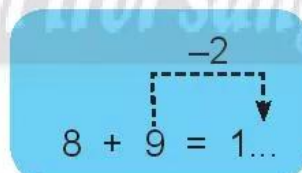
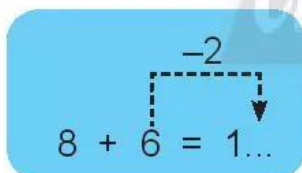
$8 + 9 = \dots\dots$

3 **Quan sát** các phép tính sau.



(Bớt 2 ở số sau ta được số đơn vị ở kết quả).

Viết số vào chỗ chấm.



4 **Nói** mỗi bảng với con vật các bạn nuôi.

