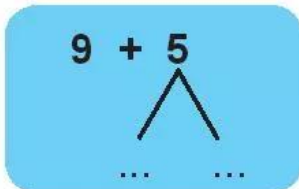


9 CỘNG VỚI MỘT SỐ

1 **Viết số** vào chỗ chấm.



Gộp cho đủ chục rồi cộng 10 với số còn lại.

Tách ... ở số sau.

2 **Tính nhẩm.**

$9 + 7 = \dots\dots$

$9 + 3 = \dots\dots$

$9 + 5 = \dots\dots$

$9 + 2 = \dots\dots$

$9 + 8 = \dots\dots$

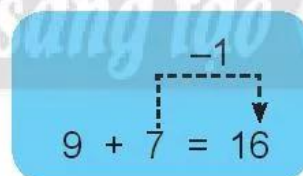
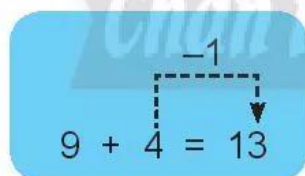
$9 + 9 = \dots\dots$

$9 + 6 = \dots\dots$

$9 + 4 = \dots\dots$

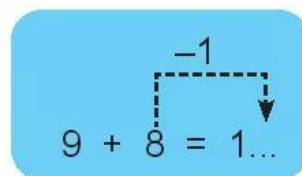
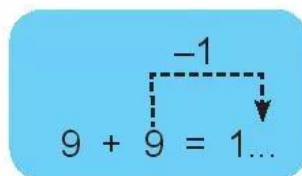
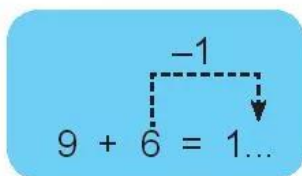
$9 + 1 = \dots\dots$

3 **Quan sát các phép tính sau.**



(Bớt 1 ở số sau ta được số đơn vị ở kết quả).

Viết số vào chỗ chấm.



4 Vui học.

Tô màu theo kết quả phép tính.

Kết quả là: **14** màu vàng

15 màu đỏ

16 màu xanh lá

17 màu xanh dương

