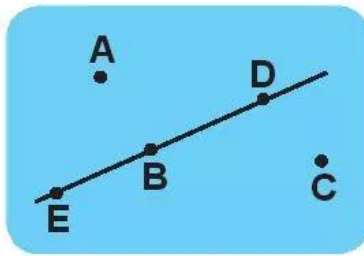


BA ĐIỂM THẲNG HÀNG

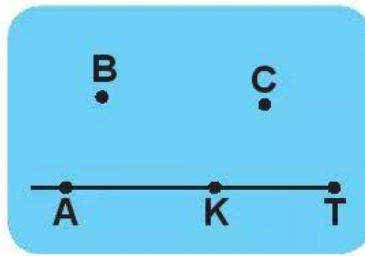
1 **Viết** tên ba điểm thẳng hàng ở mỗi hình vẽ sau (theo mẫu).

Mẫu:



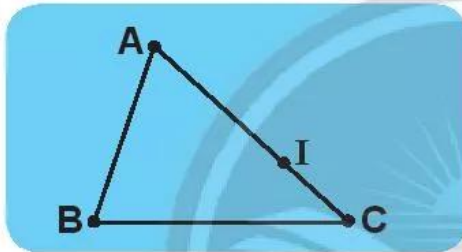
E, B, D

a)



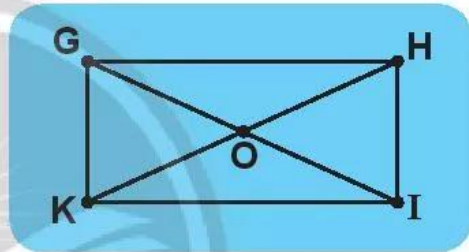
.....

b)



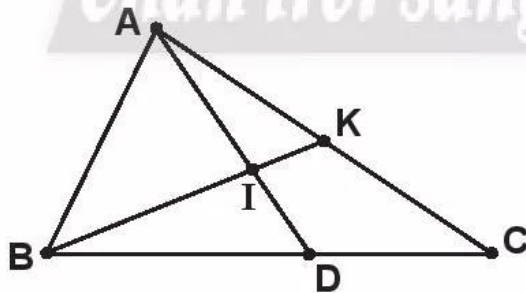
.....

c)



..... và.....

2 Đúng ghi **đ**, sai ghi **s**.



- a) Ba điểm **A, B, C** thẳng hàng.
- b) Ba điểm **A, I, D** thẳng hàng.
- c) Ba điểm **A, I, B** không thẳng hàng.
- d) Ba điểm **B, I, K** thẳng hàng.