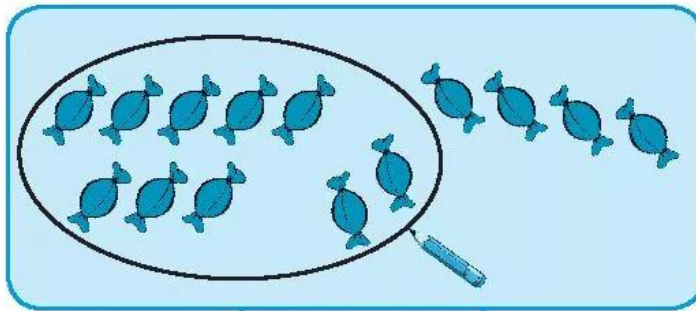


BẢNG CỘNG


1 Khoanh đủ chục rồi viết kết quả (theo mẫu).

Mẫu:



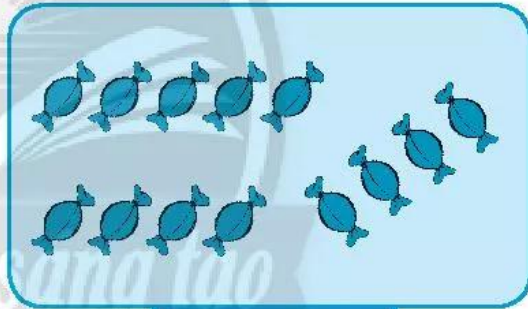
$$8 + 6 = 14$$

a)



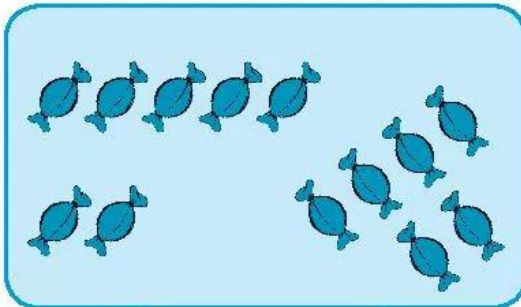
$$6 + 5 = \dots$$

b)



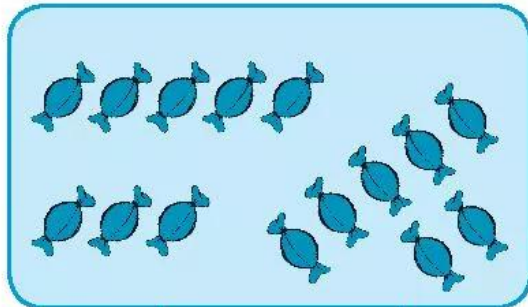
$$9 + 4 = \dots$$

c)



$$7 + 6 = \dots$$

d)



$$8 + 7 = \dots$$

2 **Viết số** vào chỗ chấm.

a) $7 + 5 = 7 + \dots + 2$

$6 + 6 = 6 + \dots + 2$

$9 + 7 = 9 + \dots + 6$

$8 + 6 = 8 + \dots + 4$

b) $8 + \dots = 8 + 2 + 5$


$7 + \dots = 7 + 3 + 4$

$9 + \dots = 9 + 1 + 8$

$6 + \dots = 6 + 4 + 3$

3 **Viết số** và **các phép cộng còn thiếu** để hoàn chỉnh bảng cộng.

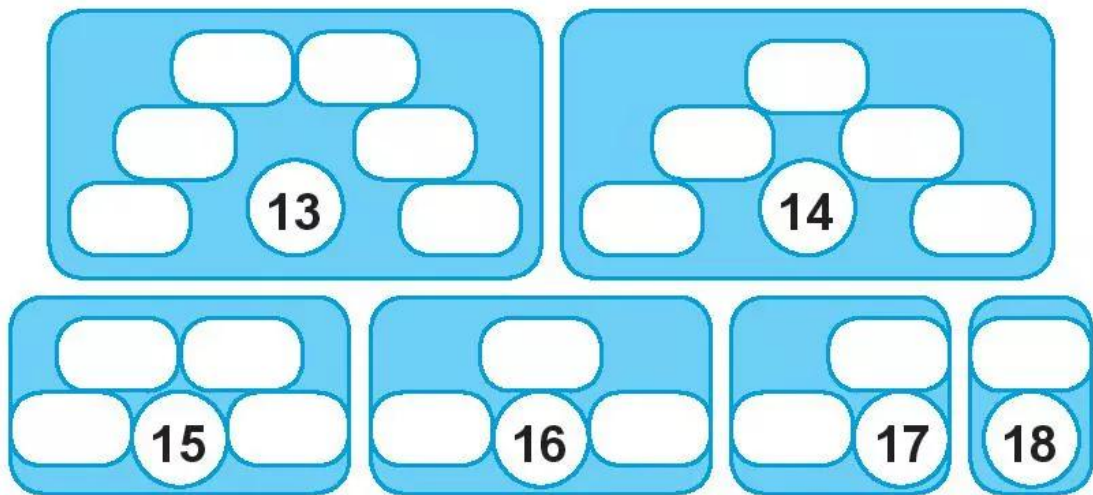
$9+2=11$								
$9+3=12$	$8+3=11$							
$9+4=\dots$	$8+4=\dots$	\dots						
$9+5=\dots$	\dots	$7+5=\dots$	\dots					
\dots	$8+6=\dots$	\dots	$6+6=\dots$	$5+6=\dots$				
\dots	\dots	$7+7=\dots$	\dots	\dots	\dots			
\dots	$8+8=\dots$	\dots	\dots	$5+8=\dots$	\dots	$3+8=\dots$		
$9+9=\dots$	\dots	$7+9=\dots$	$6+9=\dots$	\dots	$4+9=\dots$	\dots	$2+9=\dots$	



4 **Viết** các phép tính ở bảng cộng có tổng là số trong hình tròn.

<input type="text"/>	<input type="text"/>
<input type="text"/>	<input type="text"/>
<input type="text"/>	<input type="text"/>
$9 + 2$	11

<input type="text"/>	<input type="text"/>
<input type="text"/>	<input type="text"/>
<input type="text"/>	<input type="text"/>
$9 + 3$	12



5



$7 + 9 \dots 9 + 7$

$8 + 5 \dots 8 + 6$

$3 + 8 \dots 8 + 3$

$6 + 6 \dots 6 + 5$

6

Tính nhẩm.

$7 + 4 = \dots$

$6 + 8 = \dots$

$5 + 9 = \dots$

$8 + 8 = \dots$

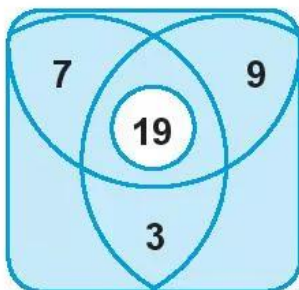
$5 + 7 = \dots$

$9 + 9 = \dots$

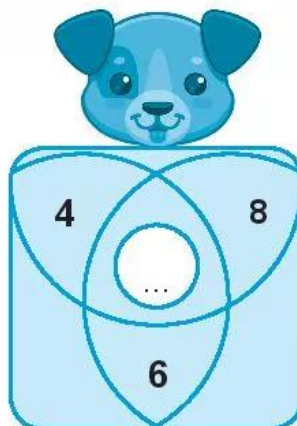
7

Viết số vào chỗ chấm (theo mẫu).

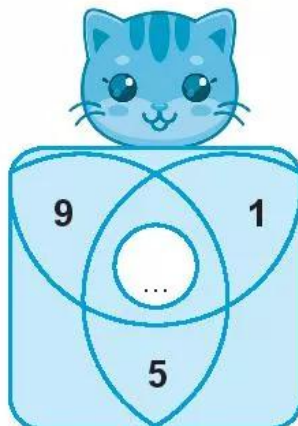
Mẫu:



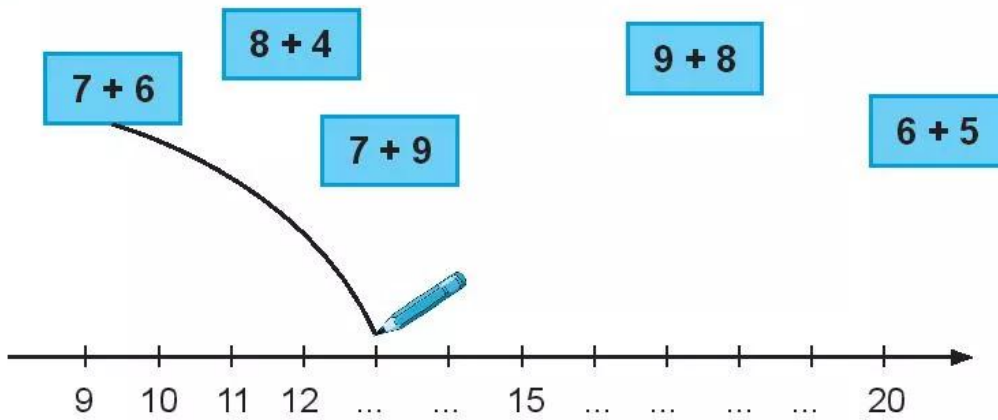
a)



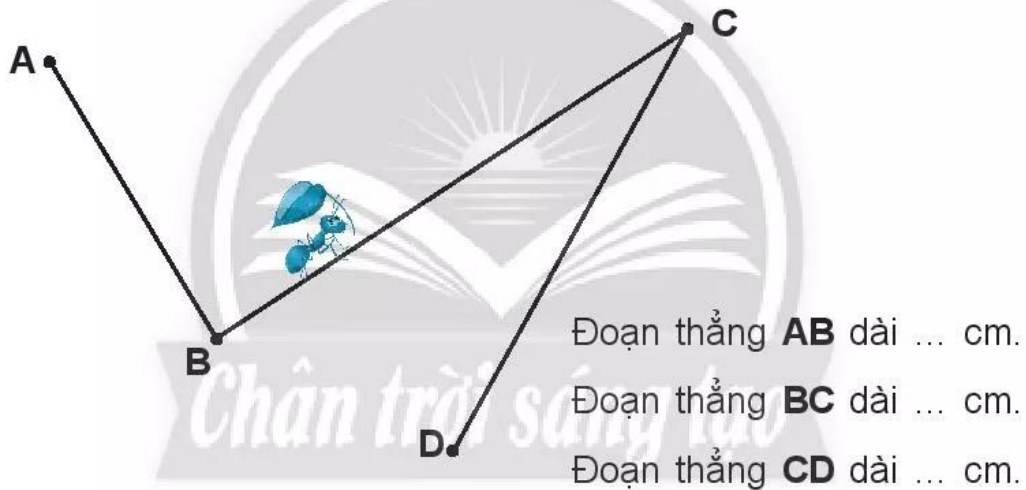
b)



8 **Nói** (theo mẫu).



9 **Đo** rồi **viết số** vào chỗ chấm.



10

Trên sân có **7** con chim sẻ, thêm **6** con nữa bay đến. Hỏi trên sân có tất cả bao nhiêu con chim sẻ?

--	--	--	--	--



Trả lời: Có tất cả con chim sẻ.