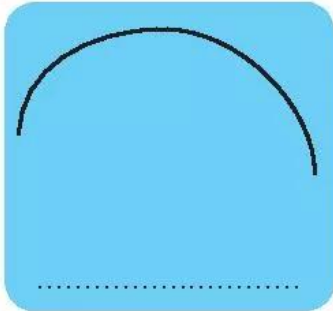


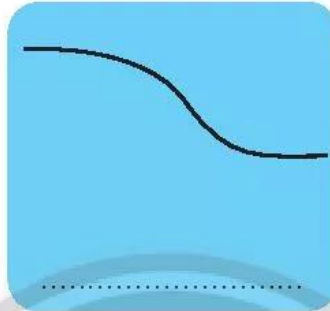
ĐƯỜNG THẲNG, ĐƯỜNG CONG

1 **Viết** vào chỗ chấm (**đường thẳng** hay **đường cong**).

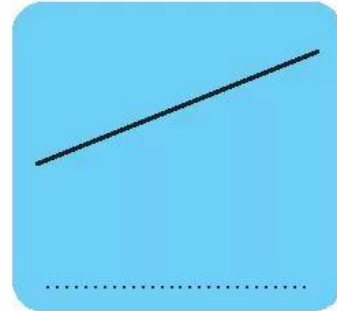
a)



b)



c)




2 **Viết** cách đọc tên đoạn thẳng, đường thẳng (theo mẫu).

Mẫu:



Đoạn thẳng AB



Đường thẳng AB



.....



.....

3 **Vẽ** một đoạn thẳng, một đường thẳng, một đường cong.