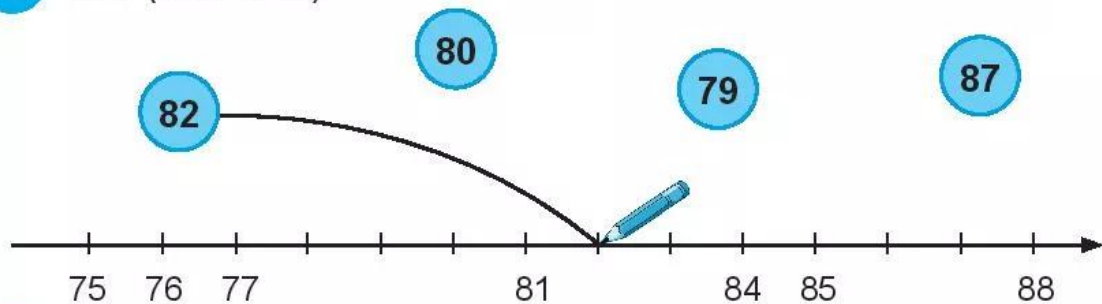


# KIỂM TRA

1 Nói (theo mẫu).



2 Nói (theo mẫu).

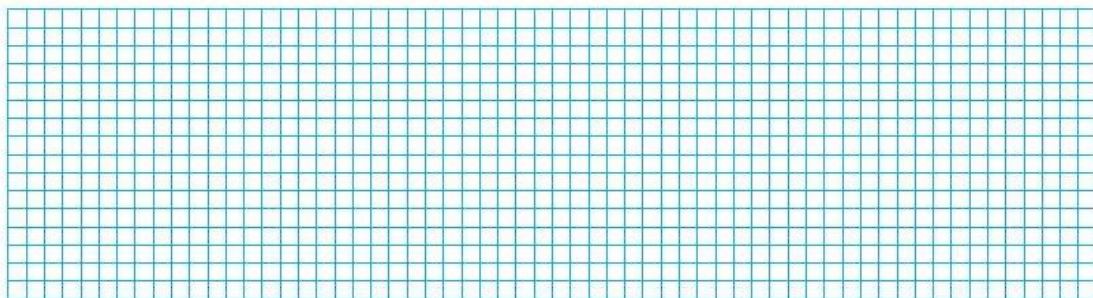
$11 - 3$	6
$18 - 9$	7
$12 - 6$	8
$15 - 8$	9

A line connects the box containing  $11 - 3$  to the circle containing the number 8.

3 Đặt tính rồi tính.

$$21 + 57$$

$$68 - 5$$



4 Tính:


$$7 + 4 = \dots$$

$$5 + 9 = \dots$$

$$6 \text{ dm} + 5 \text{ dm} - 7 \text{ dm} = \dots\dots$$

$$12 \text{ l} - 3 \text{ l} + 9 \text{ l} = \dots\dots$$

5 Khoanh vào hình để thể hiện **tổng** số hình tròn hai loại.



6 Khoanh vào **phần nhiều hơn** của số hình tròn màu xanh so với số hình tròn màu đen.



7 Đúng ghi **đ**, sai ghi **s**.

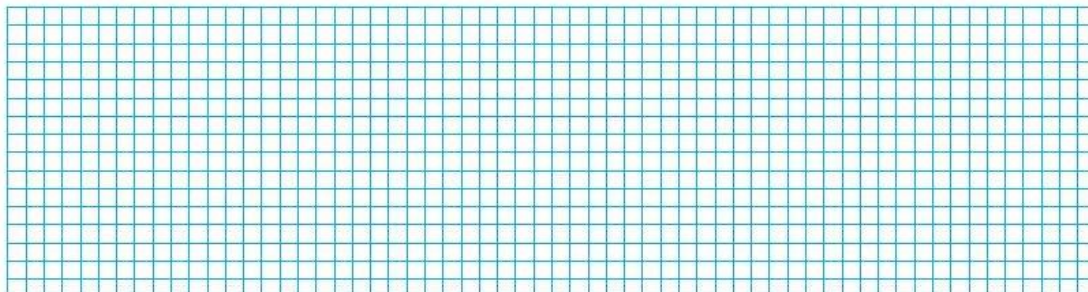
Cho biết năm nay An **8** tuổi, chị Tư **14** tuổi.

a) An ít hơn chị Tư 6 tuổi.

b) Chị Tư nhiều hơn An 6 tuổi.

c) An và chị Tư bằng tuổi nhau.

8 Lan đọc được **12** cuốn truyện. Hùng đọc được ít hơn Lan **4** cuốn truyện. Hỏi Hùng đọc được bao nhiêu cuốn truyện?



9 Đúng ghi  đ , sai ghi  s .

Cho biết bình **A** không có nước, bình **B** và bình **C** đầy nước.

Nếu đổ hết nước từ hai bình **B** và **C** vào bình **A** thì:

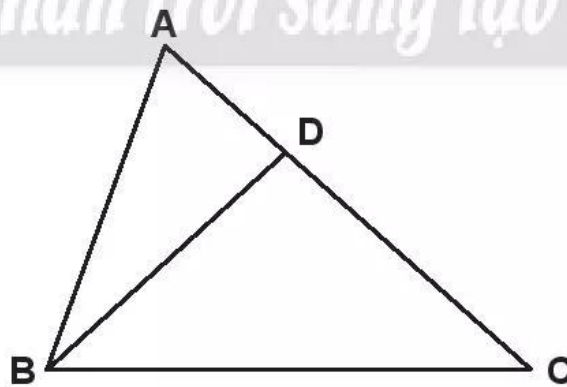
a) Nước tràn ra ngoài bình A.

b) Nước vừa đầy bình A.

c) Bình A chưa đầy nước.



10 Đo rồi tính độ dài đường gấp khúc ADBC.



..... cm + ..... cm + ..... cm = ..... cm.