

NHIỀU HƠN HAY ÍT HƠN BAO NHIÊU

1 Quan sát tranh.



- a) **Tô màu** vào các ô dưới đây:
 Mỗi con chuột, tô một ô màu đỏ.
 Mỗi con mèo, tô một ô màu xanh.

Chuột

Mèo

- b) **Nhiều hơn** hay **ít hơn**?
 Số con chuột số con mèo.
 Số con mèo số con chuột.

- c) Có **4** con mèo và **6** con chuột.
 Hỏi số chuột nhiều hơn số mèo là bao nhiêu con?
 (Hỏi số mèo ít hơn số chuột là bao nhiêu con?)

--	--	--	--	--

Trả lời: Số chuột nhiều hơn số mèo là con.
 (Số mèo ít hơn số chuột là con)

2 Quan sát tranh.




Đúng ghi **đ**, sai ghi **s**.

A. Số con cò nhiều hơn số con cá là **2** con.

B. Số con cò ít hơn số con cá là **2** con.

C. Số con cá nhiều hơn số con cò là **2** con.

3 Cho hai băng giấy sau.



a) **Đo** đội dài mỗi băng giấy rồi **viết** vào chỗ chấm.

Băng giấy xanh dài cm.

Băng giấy trắng dài cm.

b) Khoanh vào chữ cái trước ý trả lời đúng.


A. Băng giấy xanh dài hơn băng giấy trắng **3** cm.

B. Băng giấy xanh dài hơn băng giấy trắng **17** cm.

4

Ngăn trên có **20** quyển sách, ngăn dưới có **35** quyển sách. Hỏi ngăn trên có ít hơn ngăn dưới bao nhiêu quyển sách?

--	--	--	--	--




Trả lời: Ngăn trên có ít hơn ngăn dưới quyển sách.

5

Ở một siêu thị, ngày thứ nhất bán được **58** thùng dâu, ngày thứ hai bán được **30** thùng dâu. Hỏi cả hai ngày siêu thị đó bán được bao nhiêu thùng dâu?

--	--	--	--	--



Trả lời: Cả hai ngày siêu thị đó bán được thùng dâu.