


PHÉP CỘNG CÓ NHỚ TRONG PHẠM VI 100

1 **Tính rồi nói** (theo mẫu).

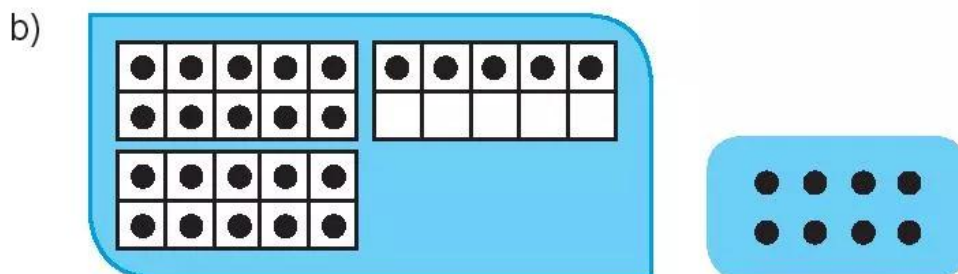


2 **Làm theo mẫu.**

Mẫu: Gộp cho đủ chục rồi cộng với số còn lại.



$$16 + 5 = \dots\dots$$



$$25 + 8 = \dots\dots$$

3 Tính.

a) $26 + 4 + 2 = \dots\dots\dots$

$26 + 6 = \dots\dots\dots$

c) $56 + 4 + 32 = \dots\dots\dots$

$56 + 36 = \dots\dots\dots$

b) $25 + 5 + 3 = \dots\dots\dots$

$25 + 8 = \dots\dots\dots$

d) $75 + 5 + 13 = \dots\dots\dots$


$75 + 18 = \dots\dots\dots$

4 Đặt tính rồi tính.

$28 + 37$

$45 + 16$

$52 + 29$



5



$45 + 8 \dots\dots\dots 48$

$63 + 29 \dots\dots\dots 100$

$27 + 33 \dots\dots\dots 23 + 37$

$18 + 24 \dots\dots\dots 30$

6 **Tính** để giúp gà con tìm mẹ.

75 77 79

$9 + 61 + 7$ $5 + 7 + 65$

$63 + 5 + 7$ $5 + 66 + 4$ $62 + 8 + 9$ $3 + 9 + 67$

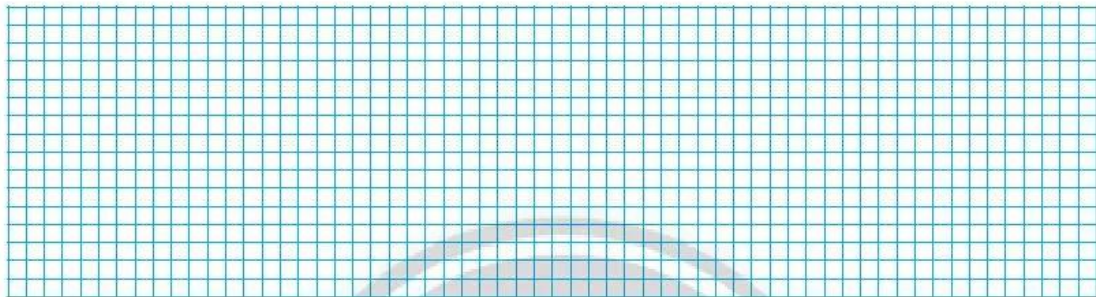
7 **Số?** (theo mẫu)

Mẫu:



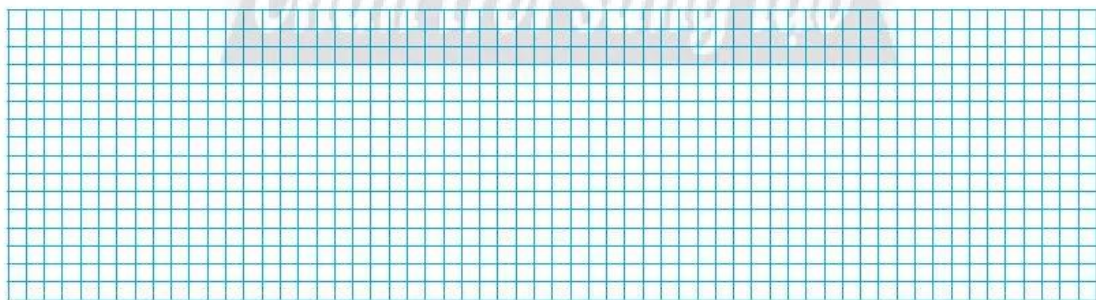

8

Một câu lạc bộ thể thao có **34** bạn chơi cờ vua và **57** bạn chơi cờ tướng. Hỏi câu lạc bộ đó có tất cả bao nhiêu bạn tham gia chơi cờ vua và cờ tướng?



9

Vườn nhà ông Tám trồng **46** cây sầu riêng.
Vườn nhà bà Ba trồng **64** cây sầu riêng.
Hỏi ông Tám trồng ít hơn bà Ba bao nhiêu cây sầu riêng?



10 Vui học.

Xếp hình con chim.

