

SỐ HẠNG – TỔNG

1 Làm theo mẫu.


Tính	Các thành phần của phép tính	
	Số hạng	Tổng
$8 + 2 = 10$	8 và 2	10
$15 + 4 = \dots\dots$	$\dots\dots$	$\dots\dots$
$6 + 10 + 20 = \dots\dots$	$\dots\dots$	$\dots\dots$

2 Đặt tính rồi tính tổng.

$24 + 63$

$11 + 76$

$52 + 4$



3 Tô màu các ô như sau:

- Hai số có tổng là **16**: màu xanh da trời.
- Hai số có tổng là **9**: màu đỏ.
- Hai số có tổng là **44**: màu vàng.
- Hai số có tổng là **52**: màu tím.

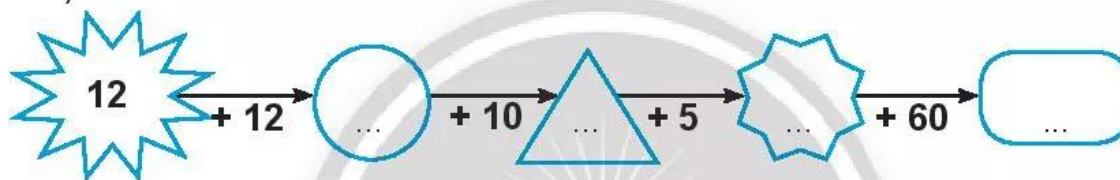
4	23	0
6	9	22
40	30	10

4 Số?

a)

Số hạng	15	22	25	64	50	40
Số hạng	22	15	44	3	40	50
Tổng	37

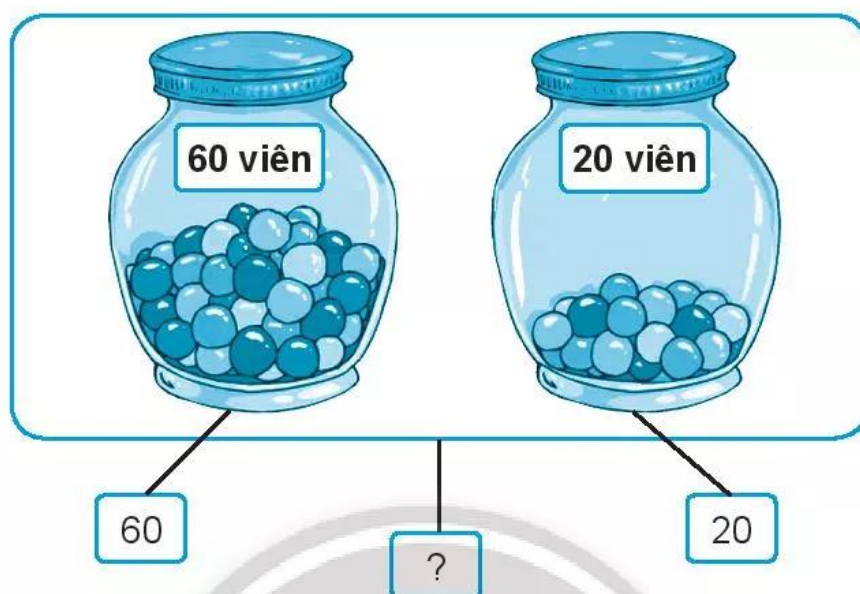
b)



5 Nói phép tính với kết quả thích hợp để giúp ong về tổ.



6 **Viết** hai phép tính cộng theo tranh.



7 **Thử thách.**

Điền chữ số thích hợp vào ô trống.

$$\begin{array}{r} 32 \\ + 5\boxed{} \\ \hline 86 \end{array}$$

$$\begin{array}{r} \boxed{}4 \\ + 31 \\ \hline 75 \end{array}$$

$$\begin{array}{r} 6\boxed{} \\ + 30 \\ \hline 98 \end{array}$$

$$\begin{array}{r} \boxed{}5 \\ + 3\boxed{} \\ \hline 67 \end{array}$$