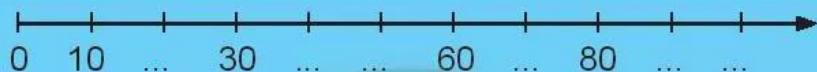

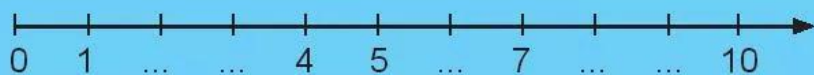


TIA SỐ – SỐ LIÊN TRƯỚC, SỐ LIÊN SAU

1 Quan sát các tia số sau.



- Viết số thích hợp vào chỗ chấm ở các tia số trên.
- Khoanh vào số liền trước của các số: **3**; **5**; **8**.
- Khoanh vào số liền sau của các số: **49**; **43**; **40**.

2 Quan sát ba tia số ở bài 1.

a) **Bé hơn** hay **lớn hơn**?

Trên các tia số này, số bên phải số bên trái.

b) **Dựa vào tia số để so sánh** các số.

>

1 9

20 100

47 42

<

7 6

30 30

46 48

=

3

a) **Viết số liền sau.**



b) **Viết số liền trước.**



4

46, 47, 48 là ba số liền tiếp.



Viết **số** vào chỗ chấm để có ba số **liền tiếp**.



5

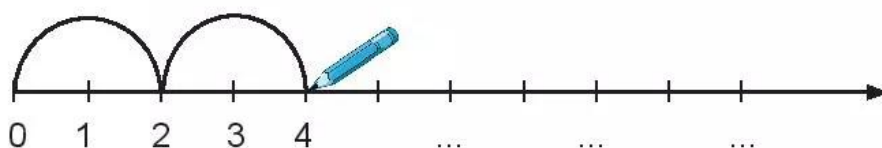
Viết số thích hợp vào chỗ chấm.



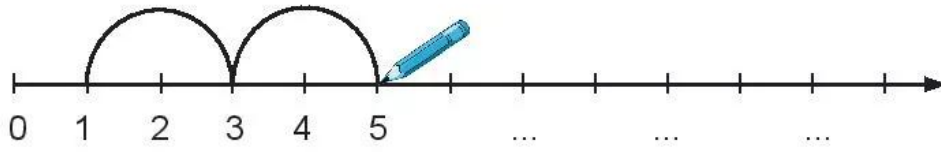
6

Đếm thêm 2 (vẽ theo mẫu, **viết số** vào chỗ chấm).

a)

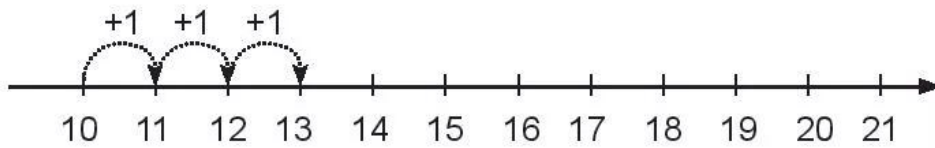


b)



7 Dựa vào tia số, **tim kết quả** của phép tính.

a) **Đếm thêm.**

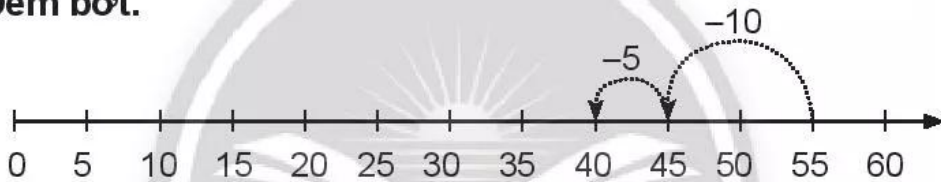


$10 + 3 = 13$

$14 + 2 = \dots$

$16 + 2 + 1 = \dots$

b) **Đếm bớt.**



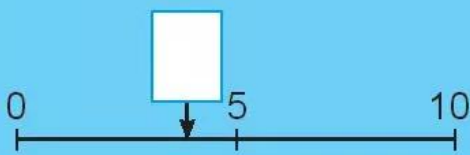
$55 - 10 - 5 = 40$

$35 - 5 - 5 = \dots$

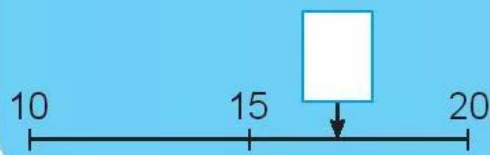
$20 - 10 - 10 = \dots$

8 *Chân trời sáng tạo* **Viết số** thích hợp vào ô trống.

a) **4** hay **6**?



b) **13** hay **17**?



c) **29, 21, 35, 48** hay **42**?



9 Vui học.

Số nhà của mỗi bạn là số nào?

Số nhà của tớ là số lớn nhất có hai chữ số.




Số nhà của tớ là số bé nhất có hai chữ số.

Số nhà của tớ là số liền sau của 99.



Chân trời sáng tạo

Số nhà của tớ là số gồm hai chữ số 4 và 7, số này lớn hơn 70.



Số nhà của Hươu Cao Cổ là

Số nhà của Khỉ là

Số nhà của Đà Điểu là

Số nhà của Voi là