


# ƯỚC LƯỢNG

1 **Viết số** vào chỗ chấm.



a) **Ước lượng.**

- Các con chim xếp thành ..... hàng ngang.
- Số con chim ở các hàng **gần bằng nhau.**
- Hàng đầu có ..... con chim.
- Mỗi hàng có khoảng ..... con chim.
- **Đếm** số con chim theo các hàng (đếm thêm 10):  
10, 20, ....., .....
- Tất cả **có khoảng** ..... con chim.

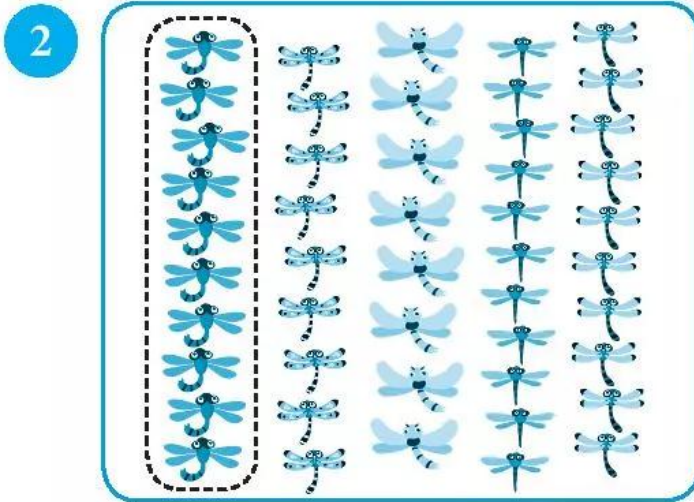
b) **Đếm** (đếm từng con chim).

Có tất cả ..... con chim.



Em đếm xem mỗi hàng  
có bao nhiêu con.

## Số?




### Ước lượng:

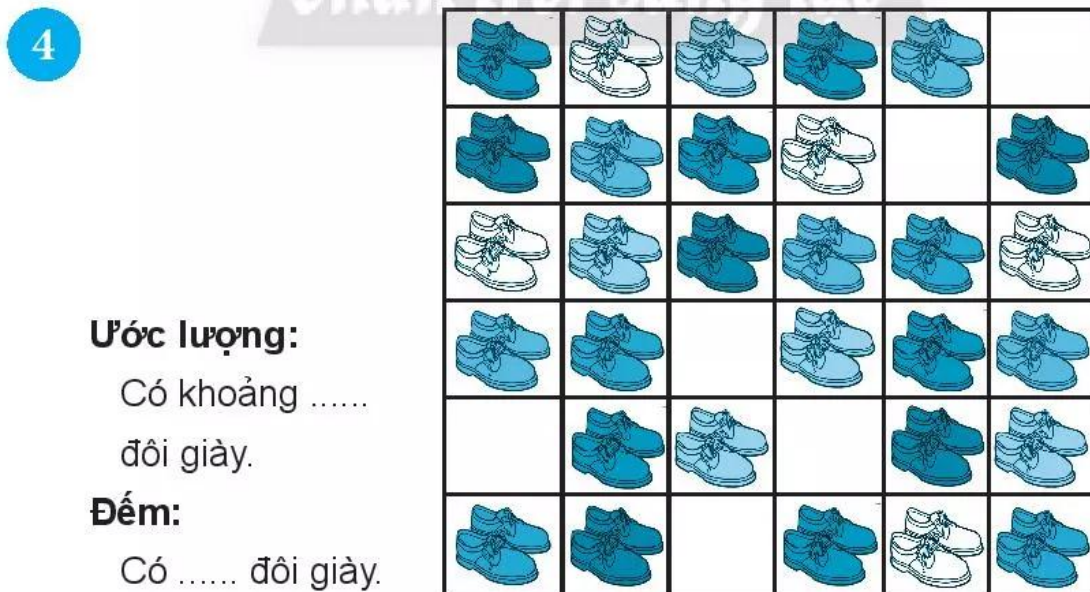
Có khoảng .....  
con chuồn chuồn.

### Đếm:

Có ..... con  
chuồn chuồn.



Ước lượng: Có khoảng ..... con gà.



### Ước lượng:

Có khoảng .....  
đôi giày.

### Đếm:

Có ..... đôi giày.