



Bài 14 : ĐÔNG NAM Á - ĐẤT LIỀN VÀ HẢI ĐẢO

Khu vực Đông Nam Á có diện tích đất đai tuy chỉ chiếm khoảng 4,5 triệu km², nhưng lại có cả không gian gồm đất liền và hải đảo rất rộng lớn. Vậy đặc điểm tự nhiên của khu vực này như thế nào ?

1. VỊ TRÍ VÀ GIỚI HẠN CỦA KHU VỰC ĐÔNG NAM Á

- Quan sát hình 1.2 và hình 14.1, em hãy xác định vị trí địa lí của khu vực Đông Nam Á.

Phần đất liền của Đông Nam Á mang tên bán đảo Trung Ấn vì nằm giữa hai nước Trung Quốc và Ấn Độ. Phần hải đảo có tên chung là quần đảo Mã Lai với trên một vạn đảo lớn nhỏ. Ca-li-man-tan là đảo lớn nhất trong khu vực và lớn thứ ba trên thế giới. Xu-ma-tơ-ra, Gia-va, Xu-la-vê-di, Lu-xôn cũng là những đảo lớn. Ngoài ra còn nhiều biển xen kẽ các đảo.

Quan sát hình 15.1, cho biết :

- Các điểm cực Bắc, Nam, Đông, Tây của khu vực thuộc nước nào ở Đông Nam Á ?
- Đông Nam Á là "cầu nối" giữa hai đại dương và hai châu lục nào ?

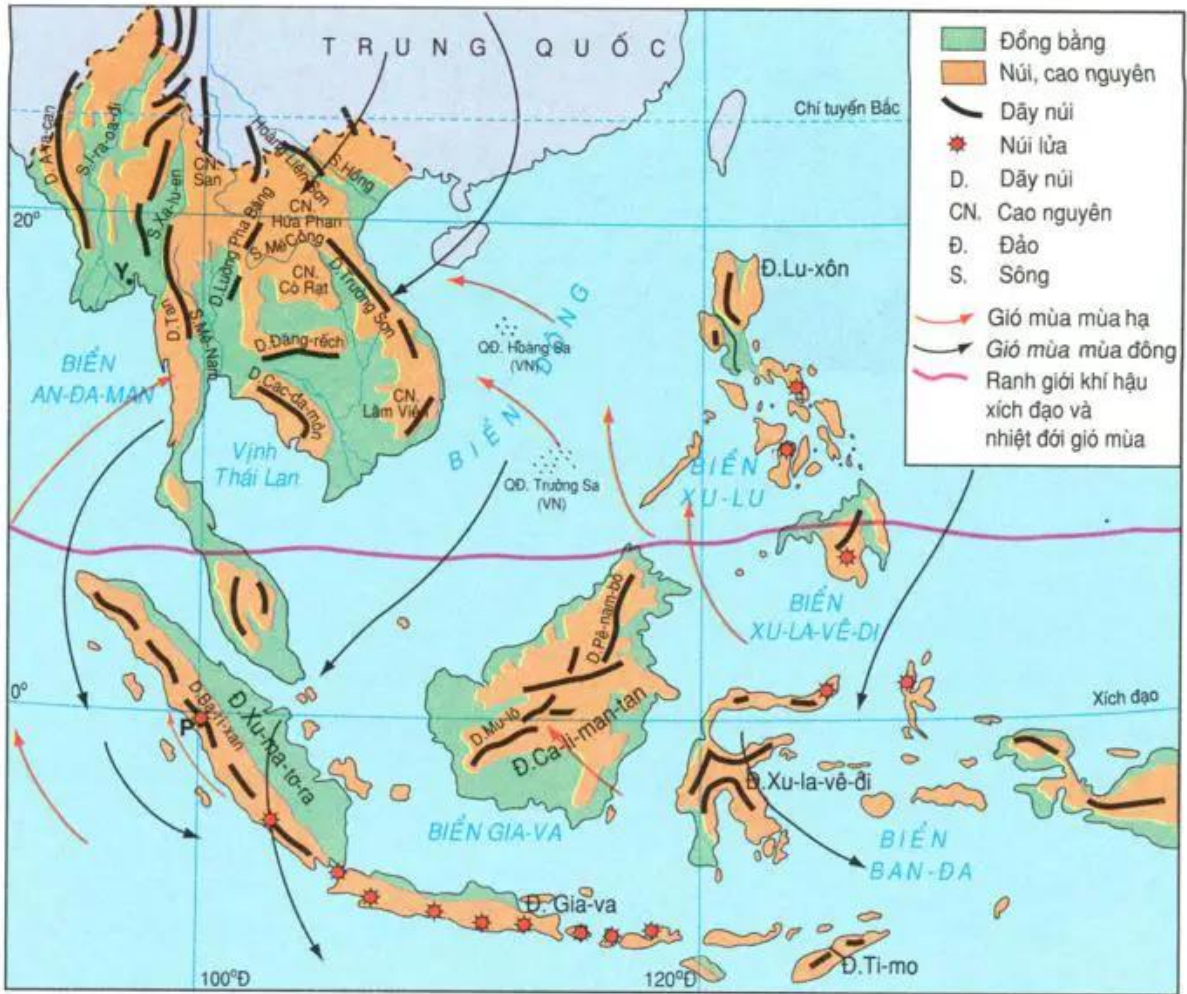
Vị trí cầu nối của khu vực ngày càng trở nên quan trọng hơn khi các nước trong vùng châu Á - Thái Bình Dương phát triển mạnh mẽ và có nhiều nước trên thế giới đến khu vực để đầu tư phát triển sản xuất và trao đổi hàng hoá.

2. ĐẶC ĐIỂM TỰ NHIÊN

a) Địa hình

Dựa vào hình 14.1 nhận xét sự phân bố các núi, cao nguyên và đồng bằng ở phần đất liền và đảo của khu vực Đông Nam Á.

Các dải núi của bán đảo Trung Ấn là những dải núi nối tiếp dãy Hi-ma-lay-a chạy dài theo hướng bắc - nam và tây bắc - đông nam, bao quanh những khối cao nguyên thấp. Các thung lũng sông cắt xẻ sâu làm cho địa hình của khu vực bị chia cắt mạnh. Đồng bằng phù sa tập trung ở ven biển và hạ lưu các sông.



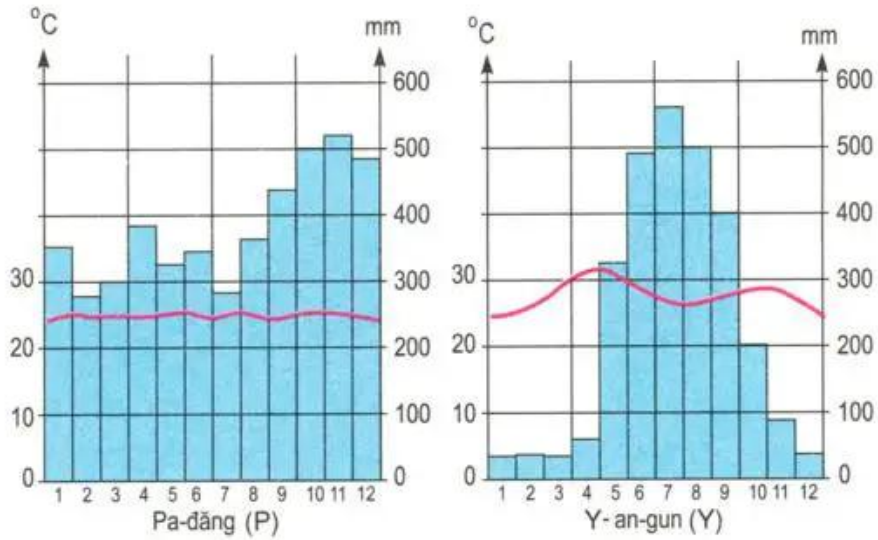
Hình 14.1. Lược đồ địa hình và hướng gió ở Đông Nam Á

Phân hải đảo là nơi thường xảy ra động đất, núi lửa do nằm trong khu vực không ổn định của vỏ Trái Đất. Vùng đất liền và thềm lục địa của khu vực chứa nhiều tài nguyên quan trọng như quặng thiếc, kẽm, đồng, than đá, khí đốt, dầu mỏ...

b) Khí hậu, sông ngòi và cảnh quan

- Quan sát hình 14.1, nêu các hướng gió ở Đông Nam Á vào mùa hạ và mùa đông.


Gió mùa mùa hạ của khu vực Đông Nam Á xuất phát từ vùng áp cao của nửa cầu Nam thổi theo hướng đông nam, vượt qua Xích đạo và đổi hướng thành gió tây nam nóng, ẩm mang lại nhiều mưa cho khu vực. Gió mùa mùa đông xuất phát từ vùng áp cao Xi-bia thổi về vùng áp thấp Xích đạo, với đặc tính khô và lạnh. Nhờ có gió mùa nên khí hậu Đông Nam Á không bị khô hạn như những vùng cùng vĩ độ ở châu Phi và Tây Nam Á. Song khu vực này lại bị ảnh hưởng của các cơn bão nhiệt đới hình thành từ các áp thấp trên biển, thường gây nhiều thiệt hại về người và của.



Hình 14.2. Biểu đồ nhiệt độ và lượng mưa

- Nhận xét biểu đồ nhiệt độ, lượng mưa của hai địa điểm tại hình 14.2, cho biết chúng thuộc đới, kiểu khí hậu nào? Tìm vị trí các địa điểm đó trên hình 14.1.

Xác định vị trí năm sông lớn trên hình 14.1: nơi bắt nguồn; hướng chảy của sông; các biển, vịnh nơi nước sông đổ vào.



Hình 14.3. Rừng rậm thường xanh

Các sông ở đảo thường ngắn và có chế độ nước điều hoà.

Các đồng bằng châu thổ có đất phù sa màu mỡ, khí hậu nóng ẩm, nguồn nước dồi dào, thuận lợi cho việc trồng lúa nước, do đó dân cư tập trung đông đúc, làng mạc trù phú.

Khí hậu nhiệt đới gió mùa tạo điều kiện cho rừng nhiệt đới ẩm thường xanh phát triển trên phần lớn diện tích của Đông Nam Á. Chỉ có một số nơi trên bán đảo Trung Ấn lượng mưa dưới 1000mm/năm, có rừng rụng lá theo mùa, rừng thưa và xa van cây bụi.

Đông Nam Á gồm phần đất liền và phần đảo nằm trong khu vực nhiệt đới gió mùa.

Các đồng bằng châu thổ màu mỡ chỉ chiếm một phần nhỏ diện tích khu vực nhưng lại là nơi dân cư đông đúc.

Cảnh quan rừng nhiệt đới ẩm thường xanh là nét đặc trưng của thiên nhiên Đông Nam Á.

CÂU HỎI VÀ BÀI TẬP

1. Quan sát hình 14.1, trình bày đặc điểm địa hình Đông Nam Á và ý nghĩa của các đồng bằng châu thổ thuộc khu vực này.
2. Nêu đặc điểm gió mùa mùa hạ, mùa đông. Vì sao chúng lại có đặc điểm khác nhau như vậy ?
3. Quan sát hình 14.1 và hình 15.1, cho biết tên các quốc gia có sông Mê Công chảy qua. Cửa sông thuộc địa phận nước nào, đổ vào biển nào ? Vì sao chế độ nước sông Mê Công thay đổi theo mùa ?
4. Vì sao cảnh quan rừng nhiệt đới ẩm chiếm diện tích lớn ở Đông Nam Á ?