

BÀI TẬP CUỐI CHƯƠNG 4

1. Tuổi của các bạn đến dự sinh nhật của bạn Phương được ghi lại như sau:

12 11 12 12 15 10 12 10 14 11 12 12

- a) Hãy lập bảng thống kê cho các dữ liệu trên.
b) Khách có tuổi nào là nhiều nhất?

2. Lập bảng thống kê số lần các chữ cái xuất hiện trong câu tiếng Anh sau đây và cho biết chữ cái nào xuất hiện nhiều nhất.

ENGLISH IS A WORKING LANGUAGE IN THE WORLD

Chữ cái	Số lần xuất hiện
E	3
N	...
G	...
L	...
I	...
...	...






3. Kết quả điều tra môn học yêu thích nhất của một số bạn khối 6 được cho như trong bảng dữ liệu sau đây:



T	V	T	N	N
T	T	L	L	N
V	T	L	L	T
V	T	L	N	N



Viết tắt: L: Lịch sử; N: Ngoại ngữ 1; T: Toán; V: Ngữ văn.

- a) Hãy gọi tên bảng dữ liệu ở trên.
b) Hãy lập bảng thống kê tương ứng.

4. Đọc biểu đồ tranh biểu diễn số xe đạp một cửa hàng đã bán được (theo màu sơn trong tháng sau đây và ghi dữ liệu vào bảng thống kê tương ứng.

Số xe đạp bán được trong tháng	
Màu	Số xe bán được
Xanh dương	
Xanh lá cây	
Đỏ	
Vàng	
Trắng bạc	

( = 10 xe;  = 5 xe)

5. Bằng cách dùng biểu tượng  đại diện cho 10 xe và biểu tượng  đại diện cho 5 xe, em hãy vẽ biểu đồ tranh biểu diễn bảng thống kê sau:

Số xe máy bán được mỗi ngày trong một tuần tại cửa hàng A	
Ngày	Số xe bán được
Thứ Hai	15
Thứ Ba	20
Thứ Tư	25
Thứ Năm	35
Thứ Sáu	40
Thứ Bảy	25
Chủ nhật	30

6. Số lượng giỏ trái cây bán được trong mùa hè vừa qua của 6 cửa hàng được biểu diễn trong biểu đồ sau:

Cửa hàng	Số giỏ trái cây bán được
Bón Mùa	
Tươi Xanh	
Miệt Vườn	
Phù Sa	
Xanh Sạch	
Quả Ngọt	

( = 100 giỏ trái cây;  = 50 giỏ trái cây)

Dùng thông tin thu được trong biểu đồ tranh ở trên để trả lời các câu hỏi sau:

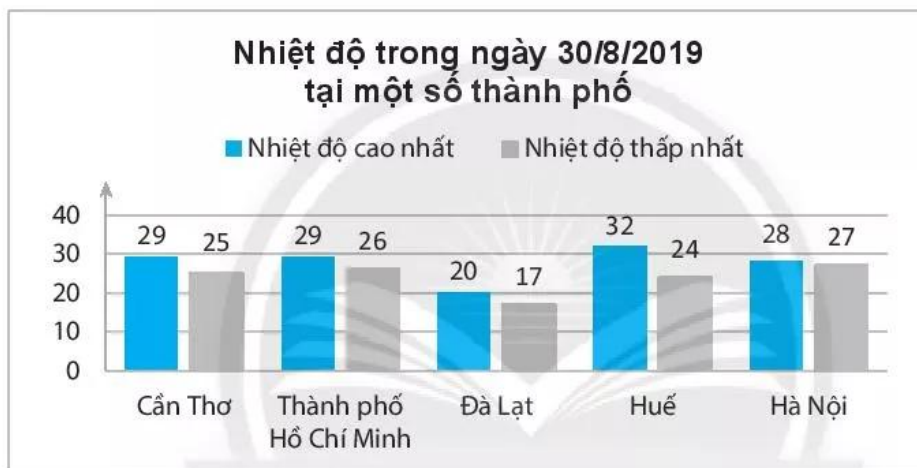
- Cửa hàng nào bán được nhiều giỏ trái cây nhất?
 - Cửa hàng Phù Sa bán được bao nhiêu giỏ trái cây?
 - Nếu có thêm thông tin cho biết những cửa hàng bán được từ 500 giỏ trái cây trở lên dự định sẽ đầu tư xây một nhà kho bảo quản. Em hãy cho biết đó có thể là những cửa hàng nào?
7. Vẽ biểu đồ cột biểu diễn dữ liệu từ bảng thống kê sau:

Các con vật nuôi của học sinh lớp 6A1	
Loài vật được nuôi	Số con
Chó	6
Mèo	4
Chim	10
Cá	14
Thỏ	2

8. Đọc biểu đồ cột dưới đây và ghi dữ liệu đọc được vào bảng thống kê tương ứng.



9. Đọc biểu đồ cột kép dưới đây và ghi dữ liệu đọc được vào bảng thống kê tương ứng.



10. Vẽ biểu đồ cột kép biểu diễn dữ liệu từ bảng thống kê sau:

Số cây trồng của hai lớp 6A1 và 6A2		
Loại cây	Lớp 6A1	Lớp 6A2
Xà lách	10	14
Cải bẹ	16	8
Húng quế	10	10
Tía tô	7	4
Ớt	2	5