

# BÀI 10

# PHÉP CỘNG TRONG PHẠM VI 10

## Tiết 1

1 ✎ Đếm rồi viết số thích hợp vào ô trống.



$1 + 2 = \square$



$2 + 3 = \square$



$4 + 1 = \square$



$2 + 2 = \square$

2 ✎ Viết số thích hợp vào ô trống.

a)



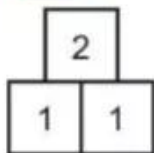
$\square + \square = \square$

b)

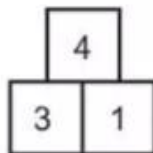


$\square + \square = \square$

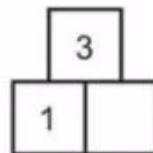
3 ✎ Số ?



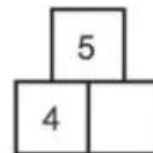
$1 + 1 = 2$



$3 + 1 = \square$



$1 + \square = 3$



$4 + \square = 5$

## Tiết 2

### 1 Số ?

$1 + 1 = \square$

$2 + 1 = \square$

$3 + 1 = \square$

$4 + 1 = \square$

$1 + 2 = \square$

$2 + 2 = \square$

$3 + 2 = \square$

$4 + 2 = \square$

$1 + 3 = \square$

$2 + 3 = \square$

$3 + 3 = \square$

$1 + 4 = \square$

$2 + 4 = \square$

$5 + 1 = \square$

$1 + 5 = \square$

### 2 Số ?

a)  $1 + 2 = \square$

$1 + 3 = \square$

$1 + 4 = \square$

$2 + 1 = \square$

$3 + 1 = \square$

$4 + 1 = \square$

b)  $1 + 5 = \square$

$2 + 3 = \square$

$2 + 4 = \square$

$5 + 1 = \square$

$3 + 2 = \square$

$4 + 2 = \square$

### 3 Viết số thích hợp vào ô trống.

a)



$1 + \square = \square$



$$\boxed{4} + \boxed{\phantom{0}} = \boxed{\phantom{0}}$$

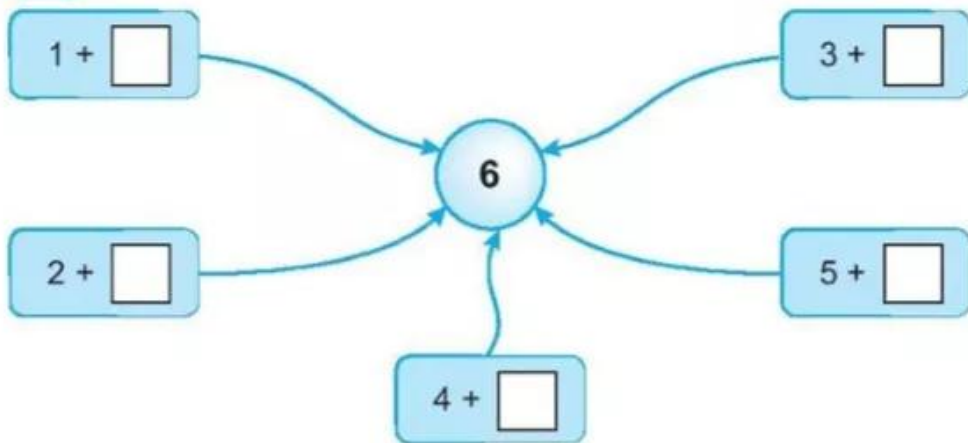


$$\boxed{\phantom{0}} + \boxed{4} = \boxed{\phantom{0}}$$



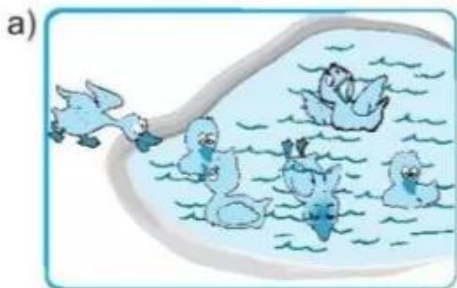
$$\boxed{\phantom{0}} + \boxed{1} = \boxed{\phantom{0}}$$

4) Số ?

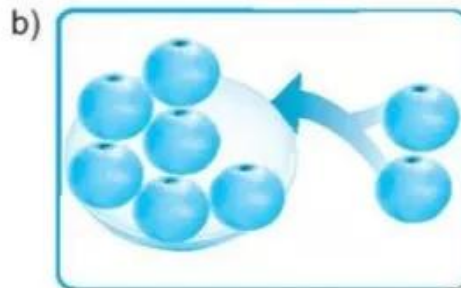


### Tiết 3

1 ✎ Viết số thích hợp vào ô trống.



$$5 + 1 = \square$$



$$6 + 2 = \square$$

2 ✎ Viết số thích hợp vào ô trống.



$$3 + \square = \square$$




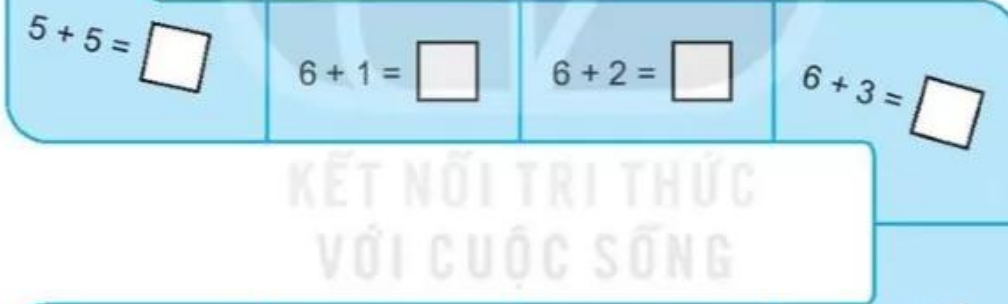
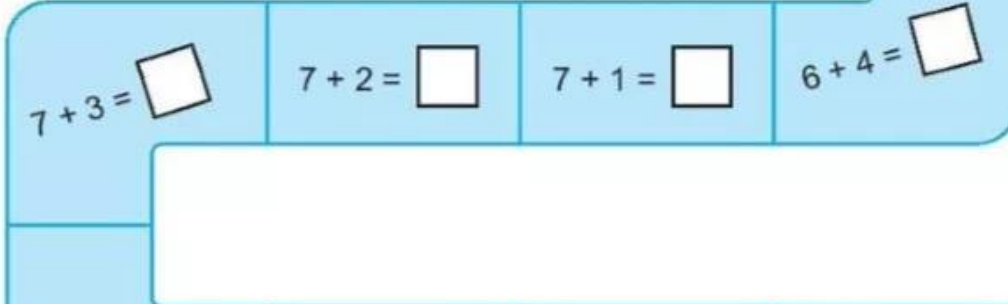


$$\square + 3 = \square$$

3 ✎ Nói (theo mẫu).



4 Số ?

Xuất phát 	$4 + 2 = \square$	$4 + 3 = \square$	$4 + 4 = \square$
			
			
 <p>KẾT NỐI TRI THỨC VỚI CUỘC SỐNG</p>			
			

# Tiết 4

1 Nói (theo mẫu).



$$0 + 3 = 3$$



$$2 + 5 = 7$$



$$3 + 0 = 3$$



$$1 + 6 = 7$$

2 **Số ?**

$1 + 2 = \square$

$1 + 3 = \square$

$4 + 1 = \square$

$5 + 1 = \square$

$2 + 1 = \square$

$2 + 2 = \square$

$3 + 2 = \square$

$2 + 4 = \square$

$3 + 0 = \square$

$3 + 1 = \square$

$5 + 0 = \square$

$0 + 6 = \square$

3 **Số ?**

a)

7	
7	0

$7 + 0 = 7$

6	1

$6 + 1 = \square$

5	2

$5 + 2 = \square$

4	3

$4 + 3 = \square$

b)

3	4

$3 + 4 = \square$

2	5

$2 + 5 = \square$

1	6

$1 + 6 = \square$

0	7

$0 + 7 = \square$

4 Tô màu đỏ vào ô ghi phép tính có kết quả bằng 5, màu vàng vào ô ghi phép tính có kết quả bằng 6, màu nâu vào ô ghi phép tính có kết quả bằng 7.

## Tiết 5

1 ✎ Viêt số thích hợp vào ô trống.

a)



$5 + 3 = \square$

$3 + 5 = \square$


b)



$3 + 6 = \square$

$6 + 3 = \square$

c)



$7 + 2 = \square$

$2 + 7 = \square$

d)



$3 + 7 = \square$

$7 + 3 = \square$

2 ✎ Số ?

a)  $6 + 2 = \square$

$5 + 4 = \square$

$3 + 5 = \square$

$7 + 2 = \square$

$2 + 6 = \square$

$4 + 5 = \square$

$5 + 3 = \square$

$2 + 7 = \square$

b)  $7 + 1 = \square$

$8 + 1 = \square$

$0 + 8 = \square$

$9 + 0 = \square$

$3 + 6 = \square$

$4 + 4 = \square$

$6 + 3 = \square$

$1 + 7 = \square$



3 ✎ Viết phép cộng thích hợp (theo mẫu).



$$\boxed{4} + \boxed{5} = \boxed{9}$$



$$\boxed{\phantom{0}} + \boxed{\phantom{0}} = \boxed{\phantom{0}}$$



$$\boxed{\phantom{0}} + \boxed{\phantom{0}} = \boxed{\phantom{0}}$$

4 ✎ Số ?

a)  $\textcircled{2} + 3 \rightarrow \boxed{5}$

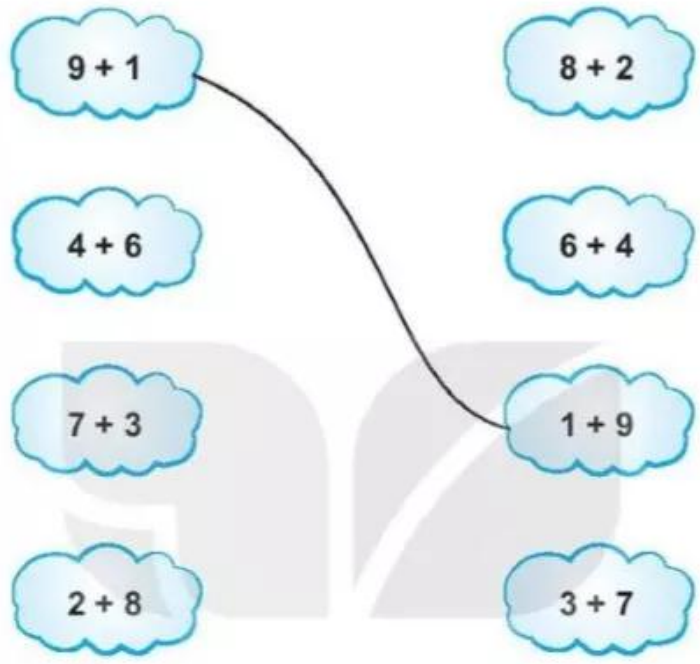
b)  $\textcircled{7} + 2 \rightarrow \boxed{\phantom{0}}$

c)  $\textcircled{3} + 5 \rightarrow \boxed{\phantom{0}}$

d)  $\textcircled{6} + 4 \rightarrow \boxed{\phantom{0}}$

# Tiết 6

1 Nói (theo mẫu).



2 Số ?

- a)  $5 + 3 = \square$                        $1 + 8 = \square$   
 $5 + 5 = \square$                        $4 + 4 = \square$   
 $0 + 9 = \square$                        $6 + 4 = \square$
- b)  $\square + 5 = 10$                        $4 + \square = 8$   
 $7 + \square = 9$                        $\square + 0 = 6$

3 a) Số ?



b) Tính (theo mẫu).

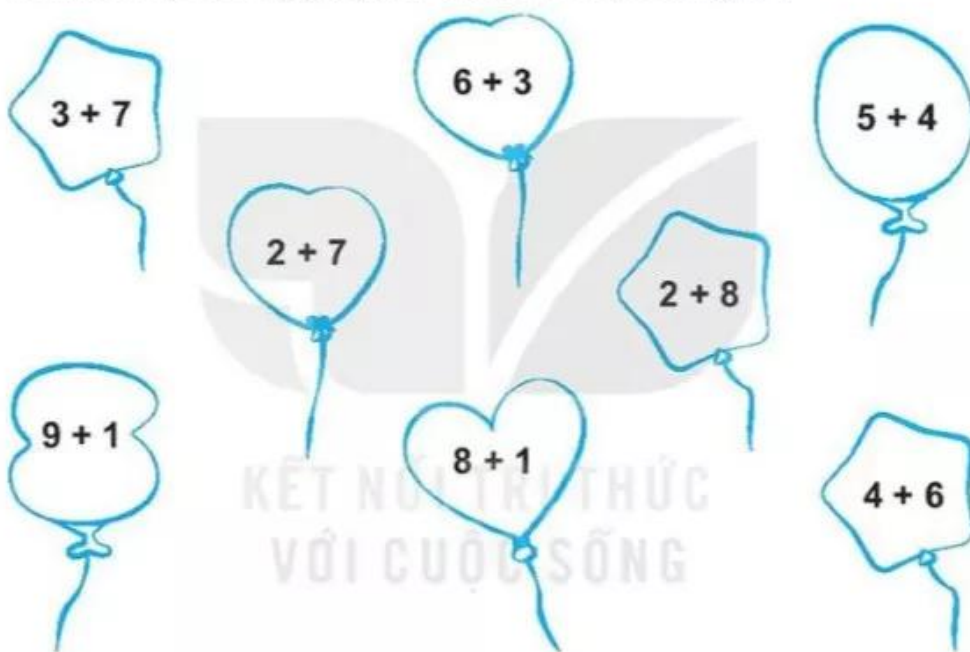
Mẫu:  $4 + 2 + 3 = 6 + 3 = 9$

Nhảm:  $4 + 2 = 6$   
 $6 + 3 = 9$

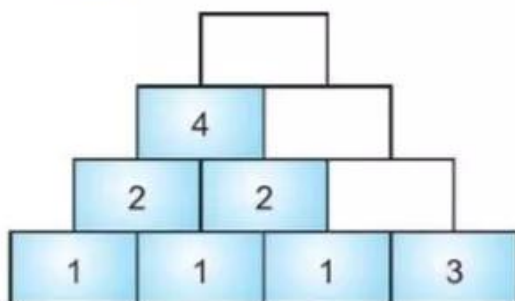
$5 + 4 + 1 = \dots\dots\dots$        $3 + 4 + 1 = \dots\dots\dots$

$2 + 5 + 2 = \dots\dots\dots$        $7 + 3 + 0 = \dots\dots\dots$

4) Tô màu đỏ vào quả bóng ghi phép tính có kết quả bằng 9, màu xanh vào quả bóng ghi phép tính có kết quả bằng 10.



5) Số ?



$1 + 1 = 2$   
 $2 + 2 = 4$   
...

