

BÀI 13

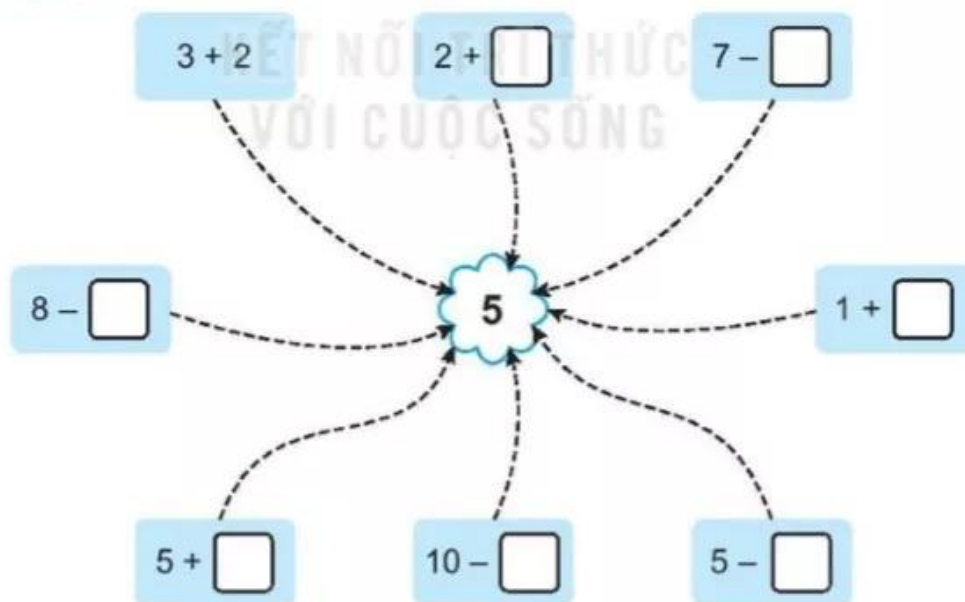
LUYỆN TẬP CHUNG

Tiết 1

1) Số ?

a) $5 + 2 = \square$	$3 + 5 = \square$	$1 + 9 = \square$	$6 + 0 = \square$
$2 + 5 = \square$	$5 + \square = 8$	$\square + 1 = 10$	$0 + 6 = \square$
b) $4 + 2 = \square$	$5 + 2 = \square$	$4 + 6 = \square$	$5 + 4 = \square$
$6 - 4 = \square$	$7 - 5 = \square$	$10 - 4 = \square$	$9 - 5 = \square$
$6 - 2 = \square$	$7 - 2 = \square$	$10 - 6 = \square$	$9 - 4 = \square$

2) Số ?



3 **Số ?**


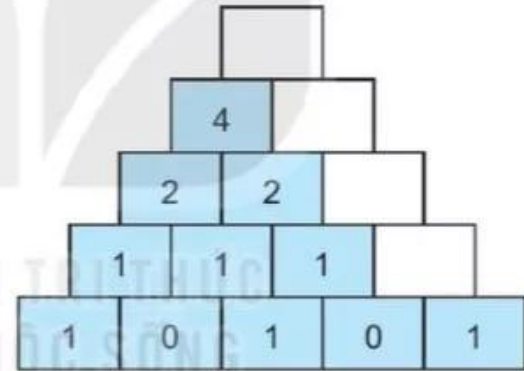
a)

+	2	3	4	1	7	2	8
	5	5	5	6	3	7	0
	7						

b)

-	6	8	9	10	5	7	4
	1	2	3	4	2	4	0
	5						

c)

4 **Viết phép tính thích hợp.**



□	□	□	□	□
---	---	---	---	---

Tiết 2

1 Nói (theo mẫu).

2 + 0

9 - 6

9 - 2

1 + 1

10 - 4

3 + 1

3 + 4

7 - 4

9 - 4

2 + 2

6 + 0


8 - 3

2 Số ?

a) $2 \xrightarrow{+2} \bigcirc \xrightarrow{+2} \bigcirc \xrightarrow{+2} \bigcirc \xrightarrow{+2} \text{flower}$

b) $9 \xrightarrow{-2} \square \xrightarrow{-2} \square \xrightarrow{-2} \square \xrightarrow{-2} \text{flower}$

3



Bạn Việt hái được các quả bưởi ghi phép tính có kết quả bằng 5. Bạn Mai hái được các quả bưởi ghi phép tính có kết quả bằng 6. Bạn Nam hái được các quả bưởi ghi phép tính có kết quả bằng 4.

a) Viết số quả bưởi mỗi bạn hái được vào ô trống.

Tên	Việt	Mai	Nam
Số quả bưởi			

b) Viết tiếp vào chỗ chấm.

Bạn hái được nhiều bưởi nhất.

Bạn hái được ít bưởi nhất.

Tiết 3

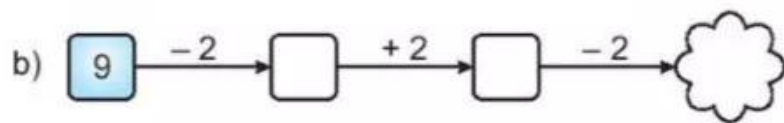
1 Số ?

a) $\square + 5 = 8$

$6 - \square = 2$

$6 + \square = 10$

$\square - 3 = 3$



2 >, <, = ?

a) $8 \square 6 + 1$

b) $3 + 4 \square 4 + 3$

$7 \square 10 - 3$

$7 + 2 \square 7 + 1$

$9 \square 9 + 1$


$10 - 2 \square 10 - 3$

3 Viết phép tính thích hợp.



$\square \square \square \square \square$

4 Tô màu.



- Tô màu đỏ vào vùng chứa phép tính có kết quả bằng 5.
- Tô màu vàng vào vùng chứa phép tính có kết quả bằng 6.
- Tô màu xanh vào vùng chứa phép tính có kết quả bằng 7.
- Tô màu nâu vào vùng chứa phép tính có kết quả bằng 4.