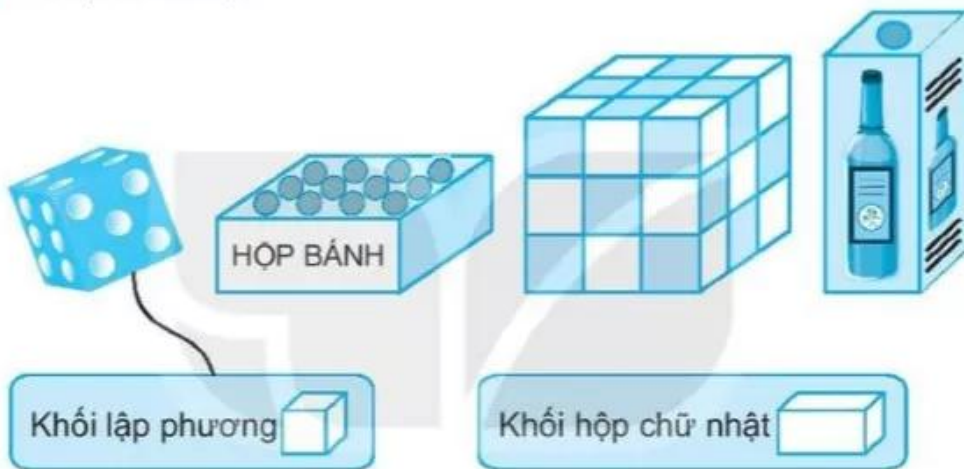


# BÀI 14

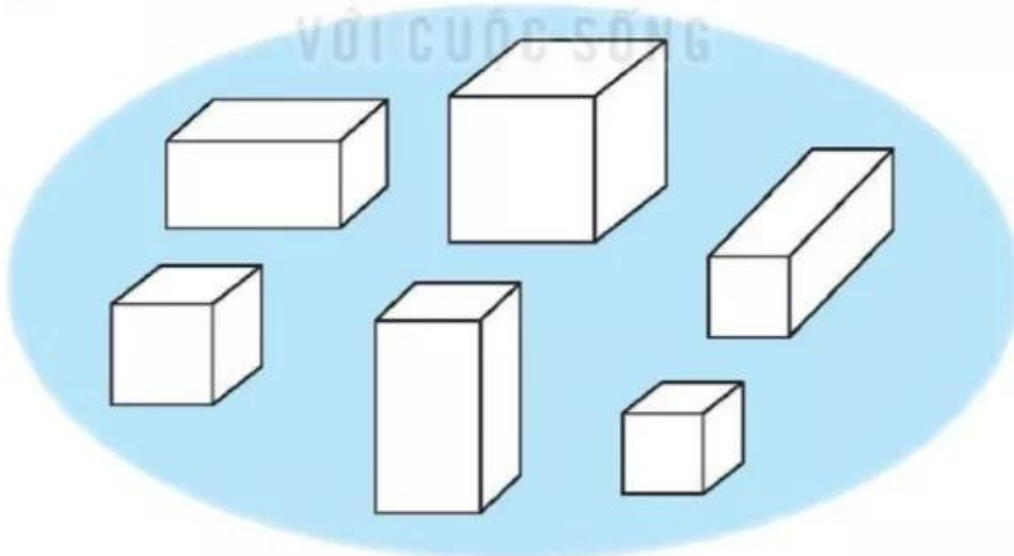
## KHỐI LẬP PHƯƠNG, KHỐI HỘP CHỮ NHẬT

### Tiết 1

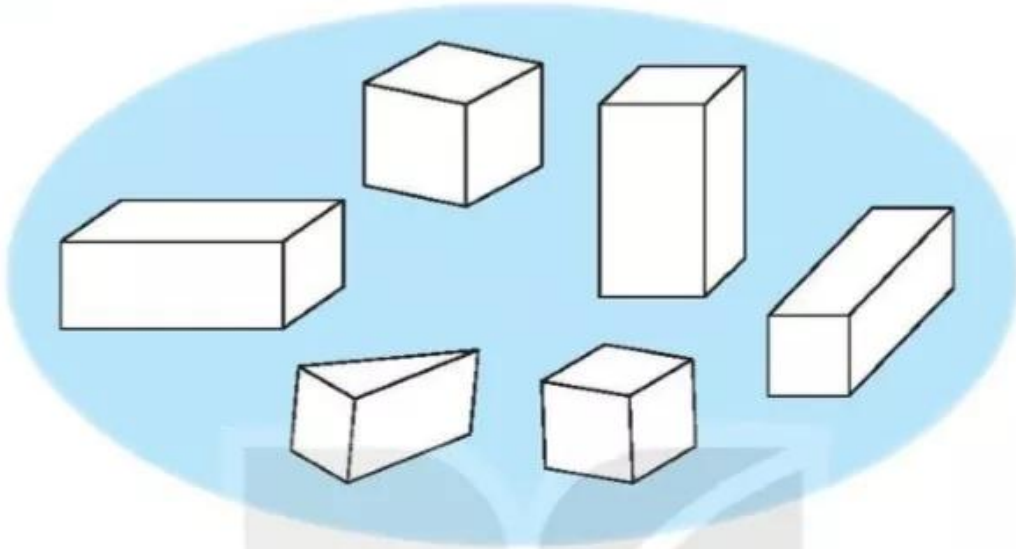
1 Nói (theo mẫu).



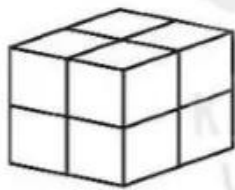
2 Tô màu các khối lập phương.



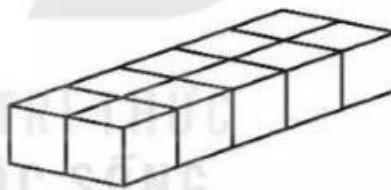
3 Tô màu các khối hộp chữ nhật.



4 Bạn Việt xếp các khối lập phương nhỏ như nhau thành hình A và hình B.



A



B

a) Mỗi hình có bao nhiêu khối lập phương nhỏ?

Viết số thích hợp vào ô trống.

Hình A	Hình B

b) Viết A hoặc B thích hợp vào chỗ chấm.

Hình ..... có nhiều khối lập phương nhỏ hơn hình .....


Hình ..... có ít khối lập phương nhỏ hơn hình .....

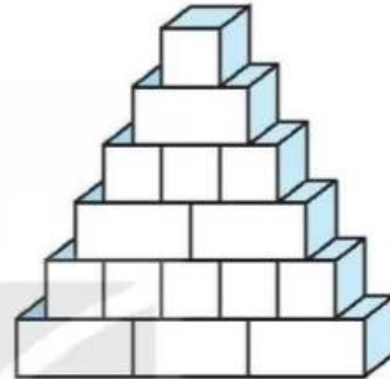
## Tiết 2

1) Bạn Mai xếp các khối gỗ đồ chơi thành hình H:

a) Viết số thích hợp vào ô trống.

Trong hình H có:

Số khối lập phương 	
Số khối hộp chữ nhật 	



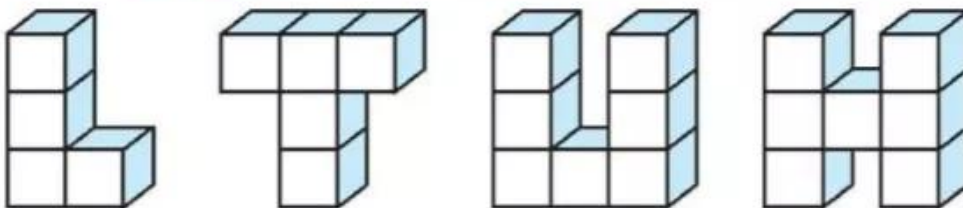
Hình H

b) Tô màu theo hàng từ trên xuống lần lượt đỏ, vàng, xanh rồi lại đỏ, vàng, xanh.

Viết số thích hợp vào ô trống.

Số khối màu đỏ	Số khối màu vàng	Số khối màu xanh

2) Dùng các khối gỗ lập phương nhỏ như nhau, bạn Việt xếp thành các chữ L, T, U, H như sau:

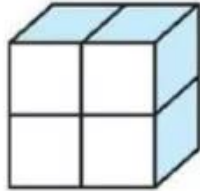


Viết tiếp vào chỗ chấm.

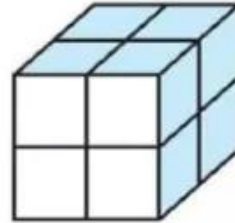
a) Chữ có số khối lập phương ít nhất là .....

b) Hai chữ có số khối lập phương bằng nhau là ..... và .....

- 3 a) Em dùng các khối lập phương nhỏ như nhau để xếp thành hai hình A và B (như hình vẽ).



A



B

b) Viết A hoặc B thích hợp vào ô trống.

– Hình  là khối lập phương. Hình  là khối hộp chữ nhật.

– Hình  có số khối lập phương nhỏ nhiều hơn hình .

- 4 Khoanh vào chữ đặt trước câu trả lời đúng.

a) Tô màu các khối lập phương lần lượt đỏ, vàng, xanh rồi lại đỏ, vàng, xanh cho đến khối cuối cùng. Hỏi khối ở dưới dấu "?" có màu gì?



A. Đỏ

B. Vàng

C. Xanh

b) Khối thích hợp đặt vào dấu "?" là:

