

**BÀI
18****ÔN TẬP PHÉP CỘNG, PHÉP TRỪ
TRONG PHẠM VI 10****Tiết 1**

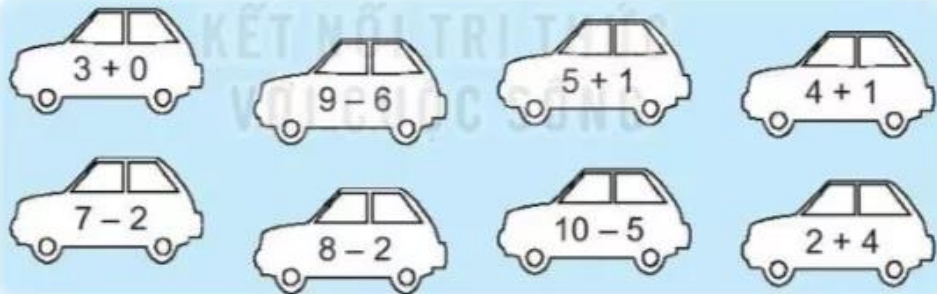
1) a) Viết số thích hợp vào chỗ chấm.

$$\begin{array}{cccc} 3 + 1 = \dots & 4 + 2 = \dots & 5 + 4 = \dots & 7 + 3 = \dots \\ 4 - 2 = \dots & 10 - 4 = \dots & 7 - 5 = \dots & 9 - 6 = \dots \\ 5 + 0 = \dots & 7 - 0 = \dots & 0 + 8 = \dots & 6 - 6 = \dots \end{array}$$

b) Số ?

$$4 + \square = 8 \quad \square + 7 = 10 \quad 9 - \square = 5$$

2) a) Tô màu đỏ vào ô tô ghi phép tính có kết quả bằng 6, màu xanh vào ô tô ghi phép tính có kết quả bằng 3, màu vàng vào ô tô ghi phép tính có kết quả bằng 5.



b) Đếm số ô tô cùng màu rồi viết vào bảng bên.

Xanh	Đỏ	Vàng

c) Khoanh vào chữ đặt trước câu trả lời đúng.

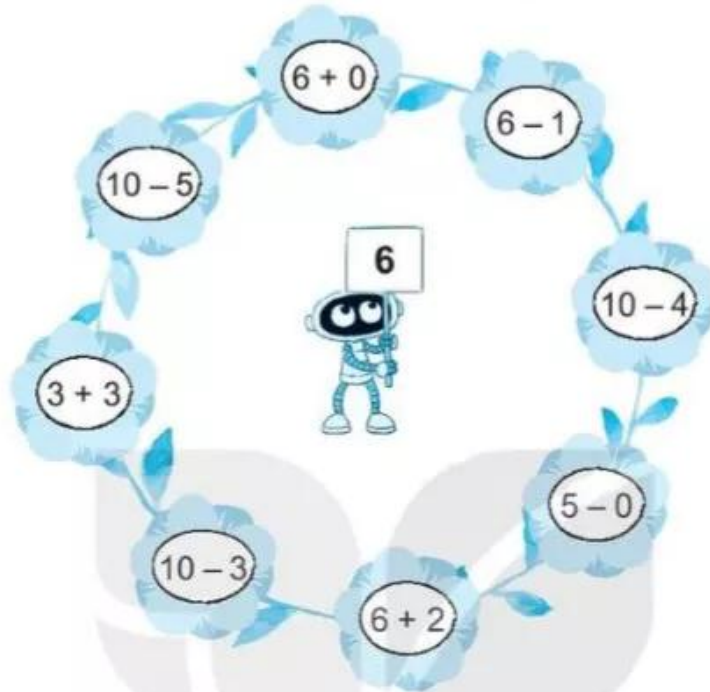
Màu có số ô tô ít nhất là:

A. Đỏ

B. Vàng

C. Xanh

3 ✎ Viết phép tính vào chỗ chấm cho thích hợp (theo mẫu).




a) Các bông hoa ghi phép tính có kết quả bằng 6 là: $6 + 0$;

b) Các bông hoa ghi phép tính có kết quả lớn hơn 6 là:

c) Các bông hoa ghi phép tính có kết quả bé hơn 6 là:

4 ✎ Từ các số dưới đây và các dấu $+$, $-$, $=$, em có thể lập được các phép tính đúng nào? Hãy viết các phép tính đó vào chỗ chấm nhé!



.....

.....

.....

.....

Tiết 2

Viết phép tính thích hợp.

1 Có 5 bạn thỏ và 4 bạn sóc cùng nhảy múa. Hỏi:


a) Cả thỏ và sóc có bao nhiêu bạn?

b) Thỏ nhiều hơn sóc mấy bạn?

2 Bàn ăn có 6 ghế, có 4 người đã ngồi vào ghế. Hỏi cần mấy người đến để ngồi hết ghế?



3 Có 4 bạn nữ đang chơi nhảy dây, thêm 3 bạn nam nữa đến chơi cùng. Hỏi có tất cả bao nhiêu bạn?



4 Trò chơi

Bắt gà

Cách chơi: Em tự chơi. Lần lượt gieo xúc xắc. Bắt đầu từ ô xuất phát, di chuyển số ô bằng số chấm nhận được. Tính kết quả phép tính tại ô đi đến rồi bắt một con gà ghi số bằng kết quả đó. Trò chơi kết thúc khi bắt được 6 con gà.



$4 + 1$	$10 - 9$	$3 - 3$	$6 - 4$	$7 - 6$	$6 - 1$
$5 + 4$					$4 - 2$
$9 - 8$					$6 + 3$
$2 - 0$					$3 - 1$
$6 + 2$					$4 + 3$
$9 - 4$					$5 - 2$
$1 + 3$					$3 + 5$